



Открытый банк заданий образца 2018 года

ЗАДАНИЕ 13 –16

1. Рассмотрите схему и выполните задания 13-16



13. Как летописец Нестор древний речной путь, обозначенный на схеме цифрой «1».

14. Напишите название древнего речного пути, обозначенного на схеме цифрой «2».

15. В какой город, расположенный на берегу проливов, соединяющих Чёрное и Средиземное моря, стремились купцы из Скандинавии?

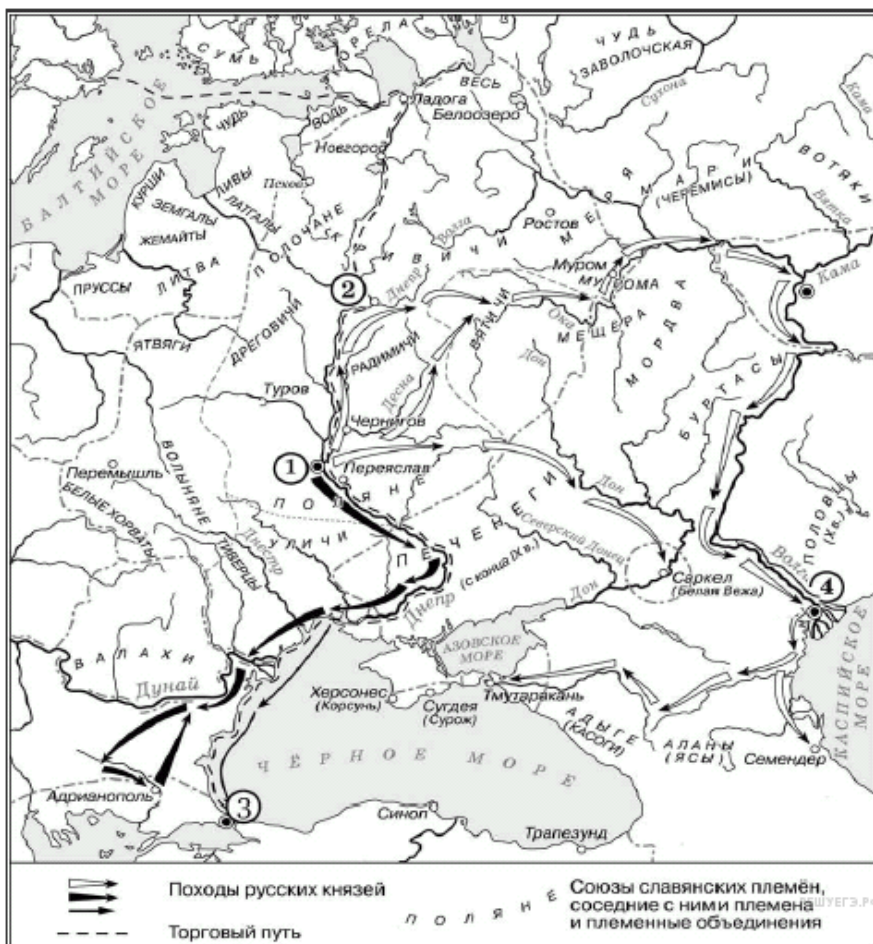
16. Какие суждения, относящиеся к обозначенным на схеме древним речным путям, являются верными. Выберите три суждения из шести предложенных. Запишите в таблицу цифры, под которыми они указаны.



- 1) из Византии в государства Скандинавии купцы везли мёд, воск, пеньку
- 2) одной из причин окончательного упадка торгового пути из Балтийского моря в Чёрное стал захват монголо-татарами нижнего и среднего Поднепровья в XIII в.
- 3) торговый путь из Балтийского моря в Чёрное был ликвидирован после захвата турками столицы Византии в середине XV в.
- 4) между Западной Двиной и Днепром торговые суда перетаскивались волоком
- 5) одним из государств, контролировавшим торговлю на пути из Балтийского в Каспийское море до конца 60-х гг. X в. была Хазария (Хазарский каганат)
- 6) князь Олег заключил выгодный торговый договор между Русью и Византией в середине IX в.

Ответ:

--	--	--

2. Рассмотрите схему и выполните задания 13-16



13. Назовите киевского князя, к деятельности которого относятся походы, обозначенные на схеме закрашенными чёрными фигурными стрелками  и контурными фигурными стрелками .


14. Напишите название города, обозначенного на схеме цифрой «1».

15. Назовите киевского князя, в период правления которого произошло подписание первого письменного договора Руси с государством, столица которого обозначена на схеме цифрой «3».

16. Какие суждения, относящиеся к исторической ситуации, обозначенной на схеме, являются верными? Выберите 3 суждения из шести предложенных. Запишите в ответ цифры, под которыми они указаны.

1) На схеме обозначен город — племенной центр ильменских словен.

2) Цифрой «2» на схеме обозначен город — центр восточнославянского племенного союза древлян.

3) Поход князя Игоря, совершённый в 941 г. и обозначенный на схеме стрелками , был успешным.

4) Цифрой «4» на схеме обозначена столица Хазарского каганата.

5) Торговый путь, обозначенный на схеме, соединял Древнерусское государство со странами Арабского Востока.

6) На схеме обозначено место обитания союза кочевых племён, крупную победу над которым в 1036 г. одержал киевский князь Ярослав Мудрый.

Ответ:

--	--	--

3. Рассмотрите схему и выполните задания 13-16



13. Напишите термин, обозначающий название периода отечественной истории, события которого изображены на карте.

14. Напишите название племён, совершивших походы, обозначенные на карте.

15. Напишите цифру, обозначающую княжество, в котором была сильная княжеская власть.

16. Какие суждения, относящиеся к событиям, обозначенным на схеме, являются верными. Выберите три суждения из шести предложенных. Запишите в таблицу цифры, под которыми они указаны.

- 1) Изображённые события относятся к XIII в.
- 2) Сражение с участием отрядов русских князей произошло на реке Калка.
- 3) Русскими войсками командовал князь Александр Невский.
- 4) Угроза нападения с юго-востока явилась предпосылкой объединения русских княжеств.
- 5) Для отражения нападения русские земли заключили союз с Литвой.
- 6) Сражение было проиграно русскими войсками, потому что русские князья действовали разрозненно.

Ответ:

--	--	--

4. Рассмотрите схему и выполните задания 13-16



13. Напишите имя русского полководца XIII в., одержавшего победы над неприятелем в сражениях, отмеченных на карте цифрами «3» и «4».

14. Напишите цифру, которой обозначен город, который в XIII в. героически оборонял от захватчиков воевода боярин Дмитр (Дмитрий).

15. Напишите название реки, на которой в 1223 г. произошла первая встреча русских войск с отрядами монголо-татар.

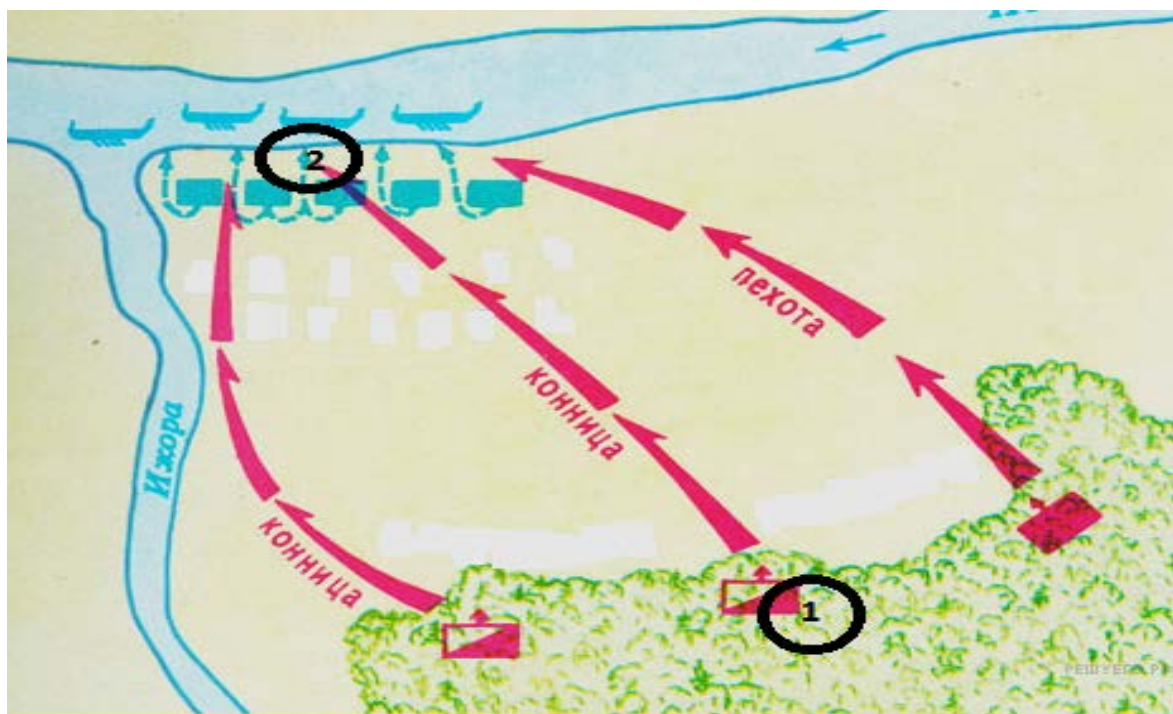
16. Какие суждения, относящиеся к событиям, обозначенным на схеме, являются верными. Выберите три суждения из шести предложенных. Запишите в таблицу цифры, под которыми они указаны

- 7) Изображённые события относятся к XIII в.
- 8) Сражение с участием отрядов русских князей произошло на реке Калка.
- 9) Русскими войсками командовал князь Александр Невский.
- 10) Угроза нападения с юго-востока явилась предпосылкой объединения русских княжеств.
- 11) Для отражения нападения русские земли заключили союз с Литвой.
- 12) Сражение было проиграно русскими войсками, потому что русские князья действовали разрозненно.

Ответ:

--	--	--

5. Рассмотрите схему и выполните задания 13-16



13. Напишите название битвы, представленной на схеме.

14. Напишите имя полководца, который командовал войском, отмеченном на схеме цифрой «1».

15. Назовите имя полководца, командовавшего войском, отмеченном на схеме цифрой «2».

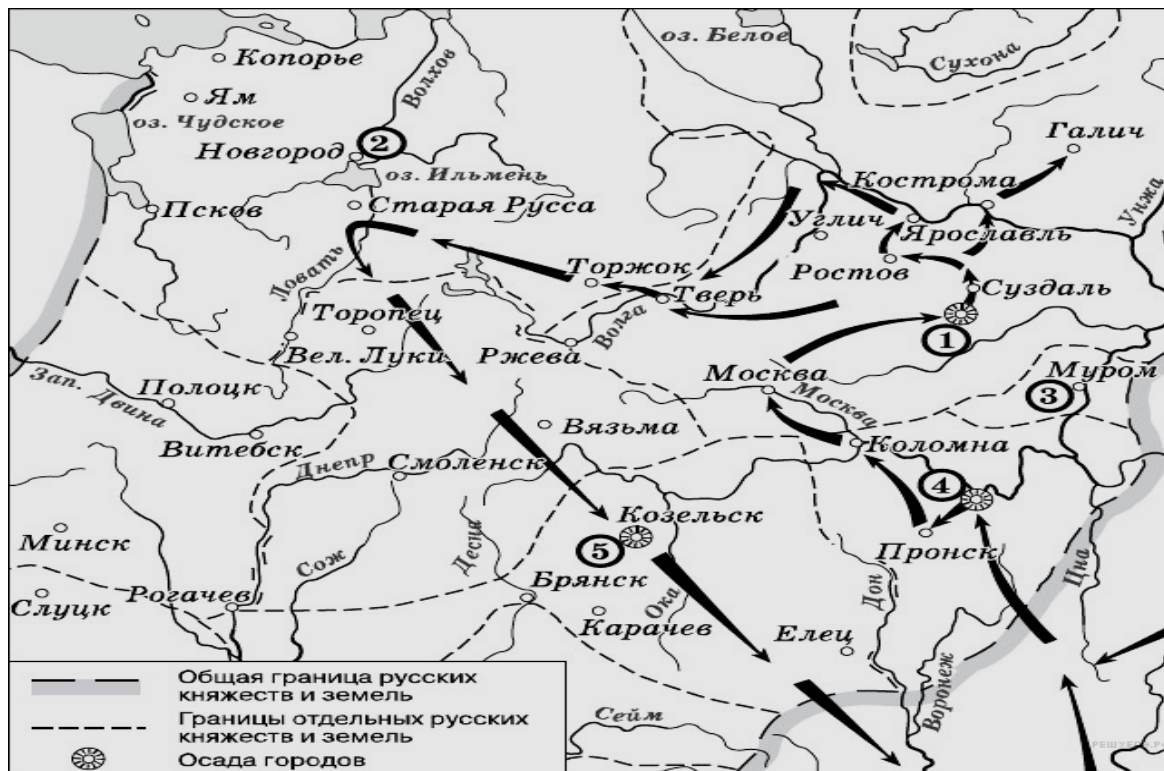
16. Какие суждения, относящиеся к данной схеме, являются верными? Выберите три суждения из шести предложенных. Запишите в таблицу цифры, под которыми они указаны.

- 1) князь, который командовал русским войском в этом сражении, в то время княжил в Новгороде
- 2) после победы в этом сражении князь, командовавший русским войском, получил прозвище, под которым и вошёл в нашу историю
- 3) кроме победы над шведами, князь, командовавший русским войском, прославился многочисленными победами над монголо-татарами
- 4) сын князя, командовавшего русским войском, стал первым князем Московским
- 5) в сражении, изображённом на схеме, приняли участие дружины из многих русских княжеств
- 6) поражение в этой битве не помешало шведам в том же году захватить Новгород и Псков.

Ответ:

--	--	--

6. Рассмотрите схему и выполните задания 13-16



13. Напишите имя полководца, осуществившего поход, обозначенный на схеме стрелками.

14. Напишите имя князя, осуществившего походы, обозначенные на схеме стрелками.

15. Напишите цифру, которой обозначена столица земли, где в период данного похода существовала республиканская форма правления.

16. Какие суждения, относящиеся к событиям, обозначенным на схеме, являются верными? Выберите три суждения из шести предложенных. Запишите в ответ цифры, под которыми они указаны.

- 1) Завоеватели вторглись в пределы Руси в зимний период.
- 2) Ни один из городов, захваченных завоевателями, не выдержал осады более одной недели.
- 3) Поход, обозначенный на схеме стрелками, длился около трёх лет.
- 4) Одним из последствий событий, обозначенных на схеме, было начало раздробленности Древнерусского государства.
- 5) В результате событий, обозначенных на схеме, русские земли попали в зависимость.
- 6) Полководец, поход которого обозначен на схеме, является основателем государства.

Ответ:

--	--	--

7. Рассмотрите схему и выполните задания 13-16



13. Напишите название битвы, представленной на схеме.

14. Напишите название реки, обозначенной на схеме цифрой «1»

15. Назовите имя князя командовавшего действиями Засадного полка во время битвы. В ответе укажите только имя.

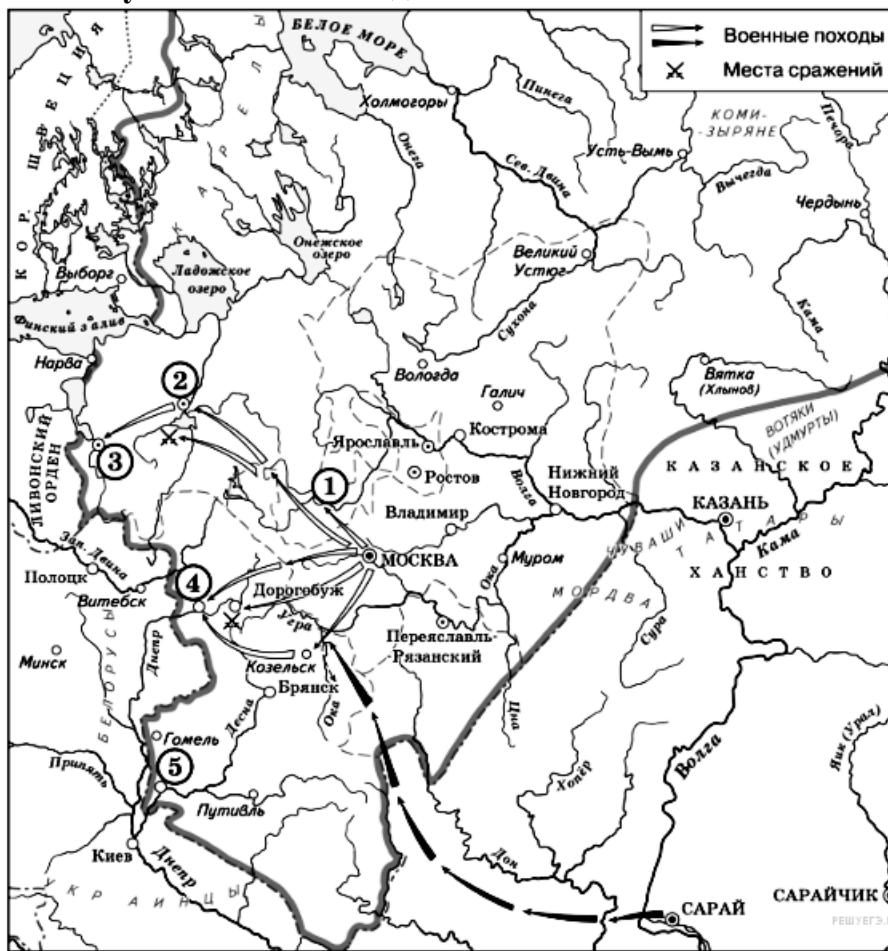
16. Какие суждения, относящиеся к событию, обозначенному на схеме, являются верными. Выберите три суждения из шести предложенных. Запишите в таблицу цифры, под которыми они указаны.

- 1) в составе русских войск, участвовавших в битве, не было дружин из Рязанского княжества
- 2) на стороне ордынцев в битве участвовали литовские полки под командованием князя Ягайло
- 3) битва была крупнейшим сражением русских и ордынских сил начала XV в.
- 4) вскоре после победы в битве русские земли освободились от ордынской зависимости
- 5) результаты битвы имели большое значение для укрепления авторитета Москвы как политического центра объединения русских земель
- 6) московский князь Дмитрий Иванович сражался в пешем строю в доспехах простого воина

Ответ:

--	--	--

8. Рассмотрите схему и выполните задания 13-16



13. Назовите князя, в годы правления которого в состав единого Русского государства вошли города, обозначенные на схеме цифрами «1» и «2».

14. Укажите век, когда в состав единого Русского государства вошли города, обозначенные на схеме цифрами «3», «4» и «5» (ответ напишите словом).

15. Назовите князя, при котором Русское государство достигло границ, обозначенных на схеме жирной чертой.

16. Какие суждения, относящиеся к данной схеме, являются верными? Выберите три суждения из шести предложенных. Запишите в таблицу цифры, под которыми они указаны.

1) В городах, обозначенных цифрами «2» и «3», до вхождения в состав единого Русского государства существовала республиканская форма правления.

2) Следствием провала похода, обозначенного чёрными стрелками, стало освобождение Русского государства от ордынского ига.

3) Город, обозначенный цифрой «1», вошёл в состав единого Русского государства в 1478 г.

4) Ордынское войско в походе, обозначенном чёрными стрелками, возглавлял Мамай.

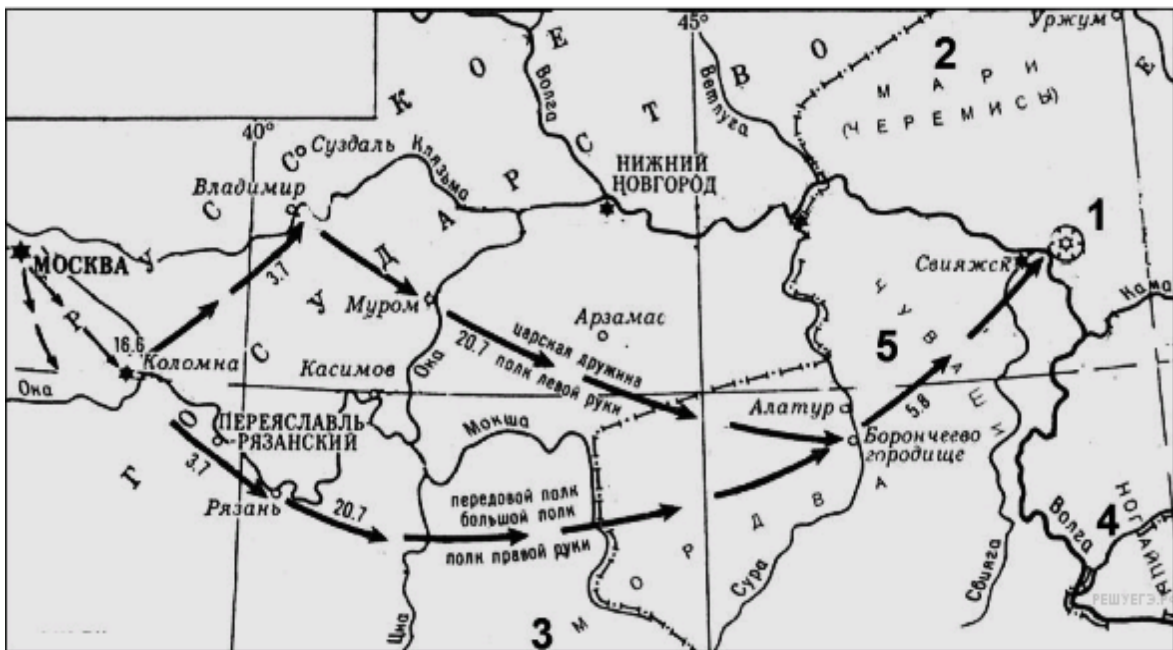
5) Город, обозначенный цифрой «2», вошёл в состав единого Русского государства в 1485 г.

6) Города, обозначенные цифрами «4» и «5», были отвоёваны Русским государством у Великого княжества Литовского.

Ответ:

--	--	--

9. Рассмотрите схему и выполните задания 13-16



13. Напишите имя русского правителя, к годам правления которого относятся события, указанные на схеме.

14. Напишите название города, обозначенного на схеме цифрой 1.

15. Напишите название средневекового государства, в результате распада которого образовалось ханство, завоёванное в ходе событий, обозначенных на схеме.

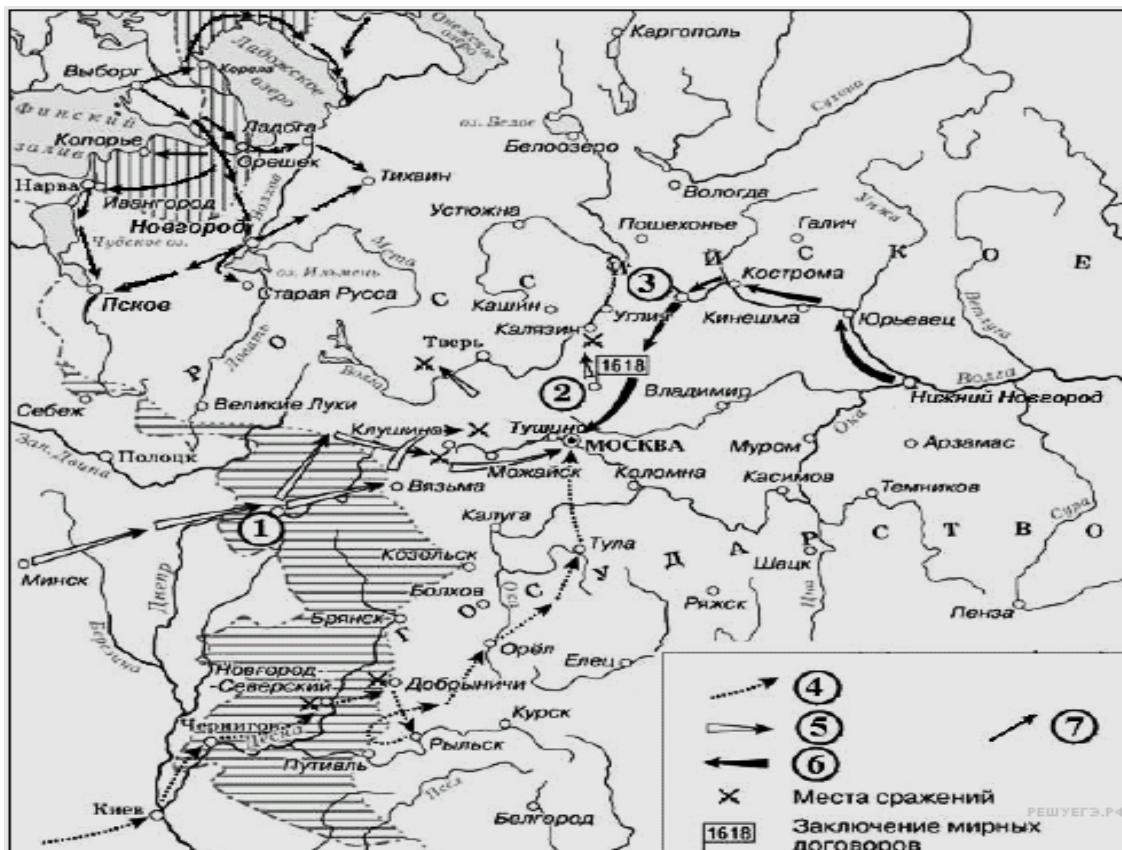
16. Какие суждения, относящиеся к схеме, являются верными? Выберите три суждения из шести предложенных. Запишите в таблицу цифры, под которыми они указаны

- 1) Победа в обозначенном на схеме походе была одержана за счёт недавно организованных на европейский лад «полков нового строя».
- 2) Значение похода, обозначенного на схеме, заключалось в частности в присоединении плодородных земель, необходимых для раздачи дворянам.
- 3) К финно-угорской группе относится народ, указанный на схеме под цифрой «2».
- 4) Обозначенный на схеме цифрой «1» город сдался русскому войску без сопротивления.
- 5) В правление российского государя, при котором произошли события, обозначенные на схеме, началось завоевание Сибири.
- 6) Народы, обозначенные на схеме под цифрами «4» и «5», относятся к славянской языковой группе.

Ответ:

--	--	--

11. Рассмотрите схему и выполните задания 13-16



13. Укажите название периода истории России, когда происходили события, обозначенные на схеме стрелками.

14. Укажите название города, обозначенного на схеме цифрой «3».

15. Назовите короля иностранного государства, действия войск которого обозначены стрелками, подписанными в легенде схемы цифрой «5».

16. Какие суждения, относящиеся к исторической ситуации, обозначенной на схеме, являются верными? Выберите 3 суждения из шести предложенных. Запишите в таблицу цифры, под которыми они указаны.

- 1) Самозванец, действия войск которого обозначены стрелками, подписанными в легенде схемы цифрой «4», получил прозвище «Тушинский вор».
- 2) Город, обозначенный на схеме цифрой «1», в ходе событий, которым посвящена схема, был захвачен неприятелем после более чем 20-месячной осады.
- 3) Цифрой «2» на схеме обозначено село Деулино.
- 4) Действиями войск, обозначенных стрелками, подписанными в легенде схемы цифрой «7», в период, которому посвящена схема, командовал Карл XII.
- 5) Одним из руководителей похода, обозначенного стрелками, подписанными в легенде схемы цифрой «6», был М. В. Скопин-Шуйский.
- 6) Территории, заштрихованные на схеме, были потеряны Россией в результате обозначенных событий, но полностью возвращены в течение следующих полутора столетий.

Ответ:

—	—	—
---	---	---

12. Рассмотрите схему и выполните задания 13-16



13. Напишите название города, обозначенного на схеме цифрой «1».

14. Укажите название периода русской истории, в ходе которого Россией была утрачена часть территорий, изображенных на карте.

15. Напишите имя правителя России, при котором заштрихованная территория вошла в состав России.

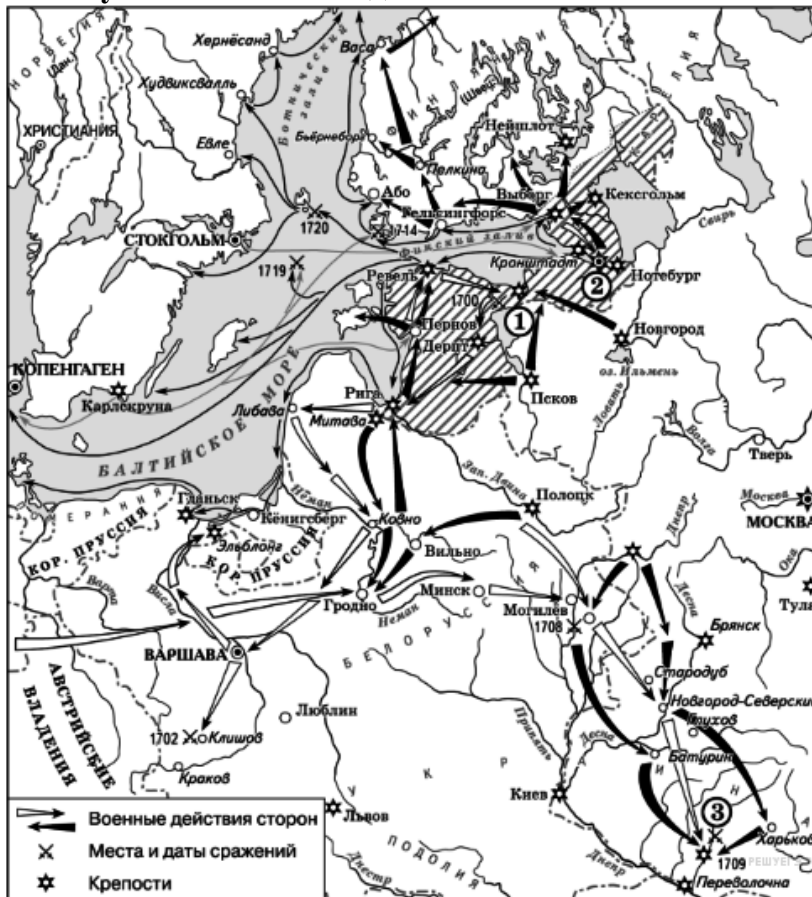
16. Какие суждения, относящиеся к событиям, связанным с присоединением указанных территорий, являются верными? Выберите 3 суждения из шести предложенных. Запишите в таблицу цифры, под которыми они указаны.

- 1) Присоединение данных территорий относится к XVII веку.
- 2) Присоединению данных территорий способствовало восстание местных жителей против прежней власти.
- 3) До присоединения к России данные территории принадлежали Османской империи.
- 4) Указанные территории при присоединении получили автономные права.
- 5) Договор о признании данных территорий за Россией был заключен в Смоленске.
- 6) Война, которую Россия вела за эти территории, получила название Смоленской.

Ответ:

—	—	—
---	---	---

13. Рассмотрите схему и выполните задания 13-16



13. Напишите название войны, события которой обозначены на данной схеме.

14. Напишите имя российского монарха, в годы правления которого шла война, события которой обозначены на данной схеме.

15. Напишите название города, у стен которого произошло сражение, обозначенное на схеме цифрой «1».

16. Какие суждения, относящиеся к событиям, обозначенным на схеме, являются верными? Выберите три суждения из шести предложенных. Запишите в таблицу цифры, под которыми они указаны.

1) После завершения войны, события которой обозначены на данной схеме, Россия стала империей.

2) Одну из решающих побед в данной войне русская армия одержала в сражении, обозначенном цифрой «3».

3) Следствием войны, события которой изображены на данной схеме, стала утрата Россией статуса морской державы.

4) Мирный договор, завершивший войну, события которой изображены на данной схеме, был подписан в городе, обозначенном цифрой «2».

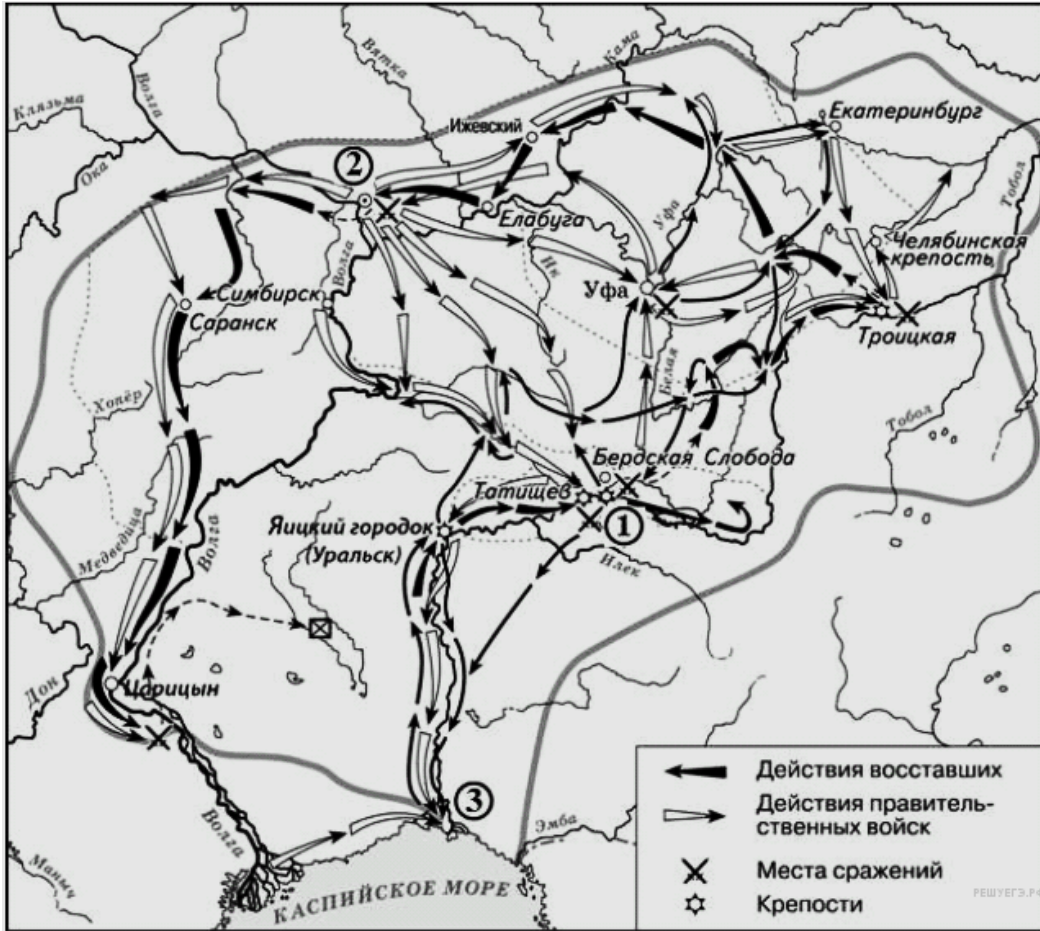
5) В ходе войны, события которой обозначены на данной схеме, проводились рекрутские наборы.

6) В результате этой войны Россия утратила заштрихованные на схеме территории.

Ответ:

___	___	___
-----	-----	-----

14. Рассмотрите схему и выполните задания 13-16



13. Укажите век, в котором происходили события, обозначенные на схеме. Ответ запишите словом.

14. Напишите название реки, обозначенной буквой «А», после завершения изображённых на схеме событий.

15. Напишите название города, обозначенного на схеме цифрой «1», у которого войска, чьи действия обозначены белыми стрелками, одержали победу.

16. Какие суждения, относящиеся к данной схеме, являются верными? Выберите три суждения из шести предложенных. Запишите в таблицу цифры, под которыми они указаны

- 1) На схеме изображён ход крупнейшего народного восстания.
- 2) Участником событий, изображённых на схеме, был казачий атаман Василий Ус.
- 3) Вооружённые отряды, действия которых обозначены чёрными стрелками, состояли только из казаков и государственных крестьян.
- 4) У города, обозначенного на схеме цифрой «2», войска, действия которых обозначены чёрными стрелками, одержали крупную победу.
- 5) Цифрой «3» на схеме обозначено место пленения предводителя вооружённых отрядов, действия которых обозначены чёрными стрелками.
- 6) После завершения событий, обозначенных на схеме, в Российской империи была проведена губернская реформа.

Ответ:

—	—	—
---	---	---

15. Рассмотрите схему и выполните задания 13-16



13. Напишите имя монарха, в чье правление шла война, события которой обозначены на данной схеме.

14. Напишите название государства, которое было основным противником России в войне, события которой изображены на данной схеме.

15. Напишите фамилию русского полководца, под командованием которого была взята штурмом хорошо укрепленная крепость, обозначенная на схеме цифрой «2».

16. Какие суждения, относящиеся к событиям, обозначенным на схеме, являются верными? Выберите три суждения из шести предложенных. Запишите в таблицу цифры, под которыми они указаны.

1) Город, обозначенный на схеме цифрой «3», стал базой русского Черноморского флота.

2) Следствием данной войны стала потеря Россией территорий, обозначенных на схеме вертикальной штриховкой.

3) Участниками войны, события которой изображены на данной схеме, были В. А. Корнилов и П. С. Нахимов.

4) Мирный договор, завершивший войну, события которой обозначены на данной схеме, был подписан в городе, отмеченном цифрой «4».

5) Одним из главных событий войны, ход которой изображен на данной схеме, было Чесменское морское сражение.

6) Русским флотом в сражении, которое произошло у мыса, обозначенного на схеме цифрой «1», командовал Ф. Ф. Ушаков.

Ответ:

--	--	--

16. Рассмотрите схему и выполните задания 13-16



13. Назовите монарха, в чье правление шла война, события которой обозначены на данной схеме.

14. Назовите фамилию государственного деятеля, получившего почетный титул за присоединение и освоение территорий, обозначенных на схеме цифрой «2».

15. Напишите название государства, которое было основным противником России в войне, события которой изображены на данной схеме.

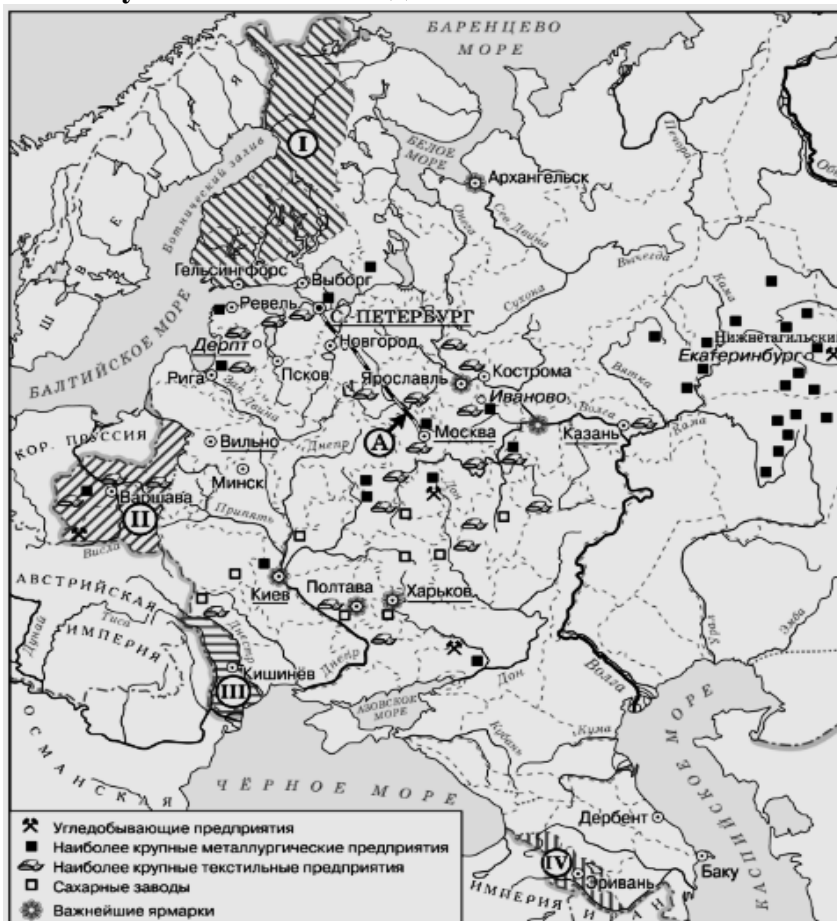
16. Какие суждения, относящиеся к событиям, обозначенным на схеме, являются верными? Выберите три суждения из шести предложенных. Запишите в таблицу цифры, под которыми они указаны.

- 1) В результате этой войны Россия утратила заштрихованные на схеме территории.
- 2) Начало войны, события которой изображены на данной схеме, стало предлогом для прекращения деятельности Уложенной комиссии.
- 3) После завершения войны, события которой обозначены на данной схеме, Россия стала империей.
- 4) Мирный договор, завершивший войну, события которой изображены на данной схеме, был подписан в городе, отмеченном цифрой «1».
- 5) Следствием войны, события которой обозначены на данной схеме, стало получение Россией выхода к Черному морю.
- 6) Участниками событий данной войны были А. Орлов и П. Румянцева.

Ответ:

--	--	--

17. Рассмотрите схему и выполните задания 13-16



13. Напишите название города, где состоялся конгресс, по решению которого в состав Российской империи вошла территория, обозначенная цифрой «II»?

14. Назовите императора, в годы правления которого был построен объект, обозначенный на схеме буквой «А».

15. Назовите императора, в годы правления которого в состав Российской империи вошла территория, обозначенная на схеме цифрой «I».

16. Какие суждения, относящиеся к данной схеме, являются верными? Выберите три суждения из шести предложенных. Запишите в таблицу цифры, под которыми они указаны.

1) В подготовке и подписании мирного договора, по которому в состав Российской империи вошла территория, обозначенная на схеме цифрой «IV», участвовал А. С. Грибоедов.

2) Территория, обозначенная на схеме цифрой «I», была присоединена к России в результате русско-шведской войны.

3) Присоединение территории, обозначенной на схеме цифрой «III», произошло в 1829 г.

4) Большинство текстильных предприятий, согласно схеме, находилось в центральном районе страны.

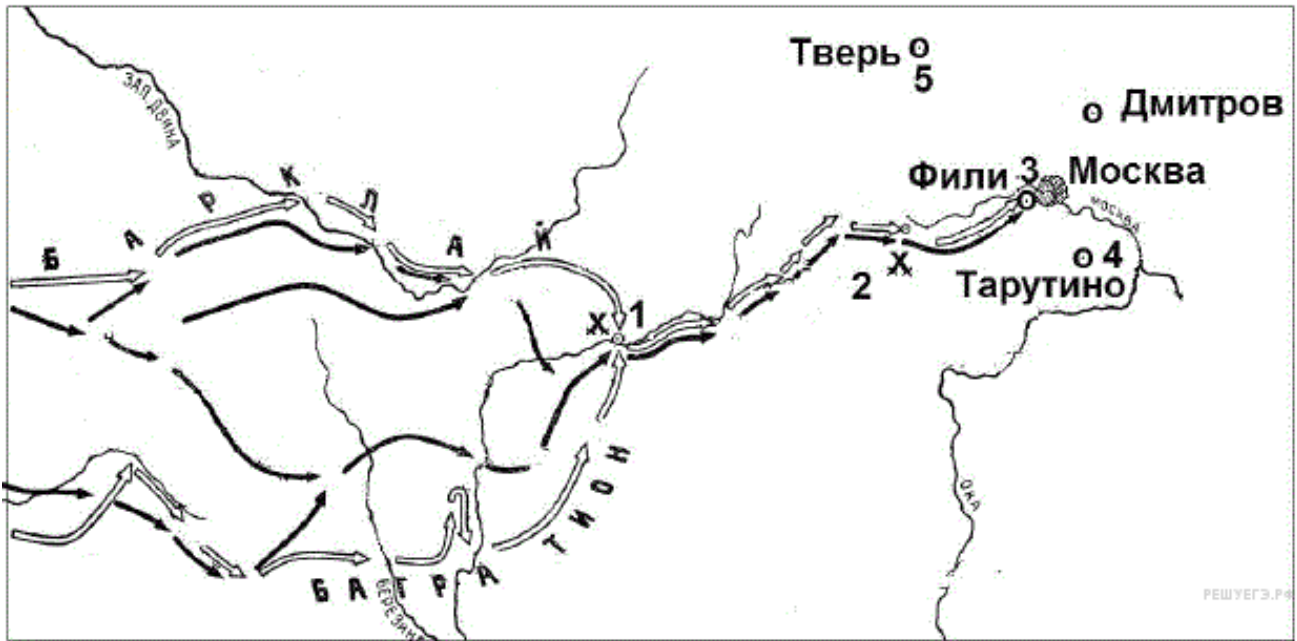
5) Объект, обозначенный на схеме буквой «А», был первым подобным объектом, построенным в России.

6) Промышленное освоение района, в котором, согласно схеме, отмечается наибольшая концентрация металлургических предприятий, началось только в первой половине XIX в.

Ответ:

—	—	—
---	---	---

18. Рассмотрите схему и выполните задания 13-16



13. Напишите название войны, события которой изображены на схеме.

14. Напишите фамилию полководца, который возглавил русские войска вскоре после сражения, обозначенного на схеме цифрой «1».

15. Напишите название местности, где произошло сражение, обозначенное на схеме цифрой «2».

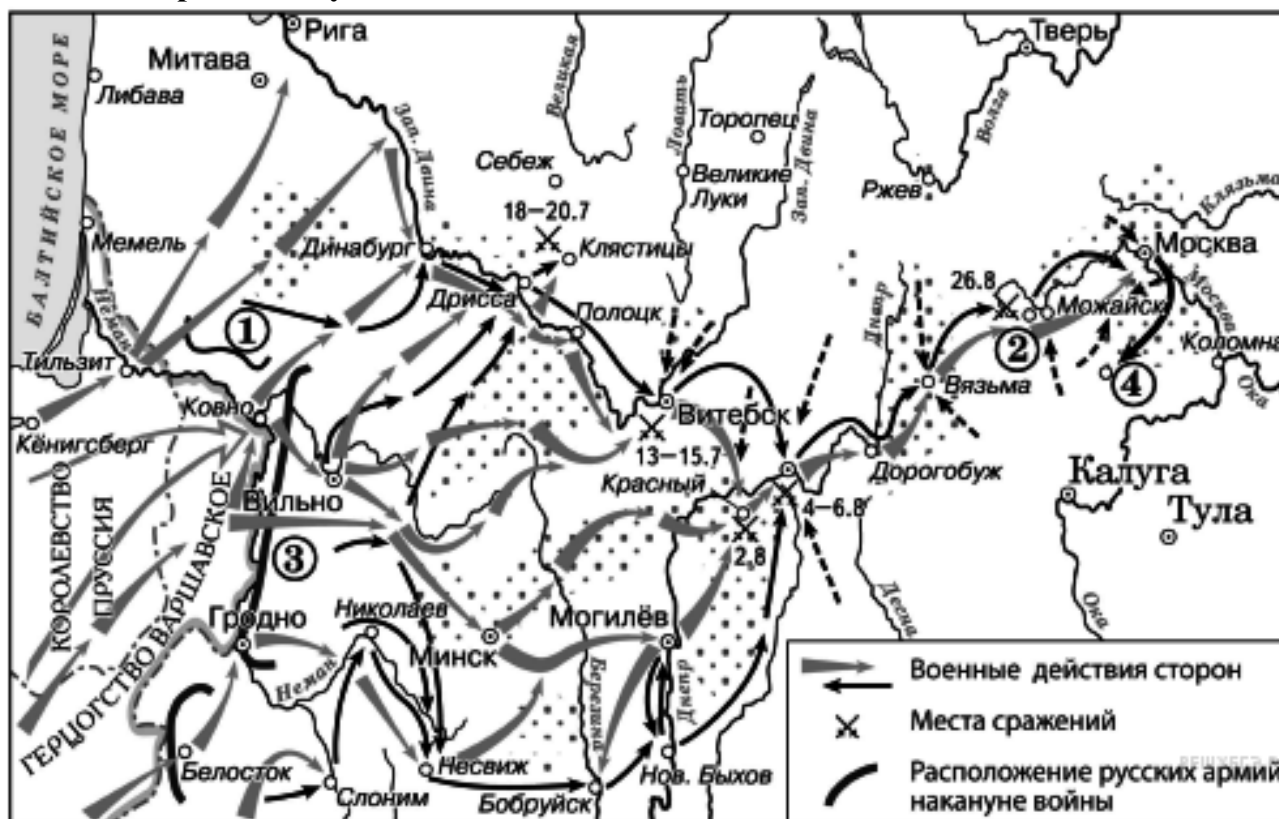
16. Какие суждения, относящиеся к событиям, связанным со схемой, являются верными? Выберите три суждения из шести предложенных. Запишите в ответ цифры, под которыми они указаны.

- 1) указанные на схеме военные действия длились больше года
- 2) с начала войны русские войска преследовали вторгшегося неприятеля
- 3) самое кровопролитное сражение этой войны произошло под Вязьмой
- 4) после оставления Москвы русские войска отошли в пункт, обозначенный на схеме цифрой «4»
- 5) императором России в период этой войны был Александр I
- 6) вторгшаяся в Россию неприятельская армия получила в истории название «Великая армия»

Ответ:

—	—	—
---	---	---

19. Рассмотрите схему и выполните задания 13-16



13. Напишите название населённого пункта, обозначенного на схеме цифрой «2».

14. Напишите фамилию полководца, командовавшего армией, обозначенной на схеме цифрой «3».

15. Напишите название города, где соединились армии, обозначенные цифрами «1» и «3».

16. Какие суждения, относящиеся к событиям, обозначенным на схеме, являются верными? Выберите три суждения из шести предложенных. Запишите в таблицу цифры, под которыми они указаны.

1) Участниками войны, события которой изображены на данной схеме, были А. В. Суворов и П. А. Румянцев.

2) В начале военных действий, изображённых на схеме, неприятель обладал большим численным превосходством.

3) Общее командование войсками, действия которых обозначены чёрными стрелками, осуществлял Н.Н. Раевский.

4) Перемещение войск в пункт, обозначенный цифрой «4», получило название «Тарутинский манёвр».

5) Участниками движения, районы действия которого обозначены точками, были Д. В. Давыдов и А. Н. Сеславин.

6) Войсками, действия которых обозначены серыми стрелками, командовал король Карл XII.

Ответ:

--	--	--

20. Рассмотрите схему и выполните задания 13-16



13. Назовите российского императора, в годы правления которого происходили события, изображённые на схеме.

14. Укажите название населённого пункта, обозначенного на схеме цифрой, где был подписан предварительный мирный договор по итогам войны, которой посвящена схема.

15. Укажите название города, обозначенного на схеме цифрой, который по итогам данной войны вошёл в состав Российской империи.

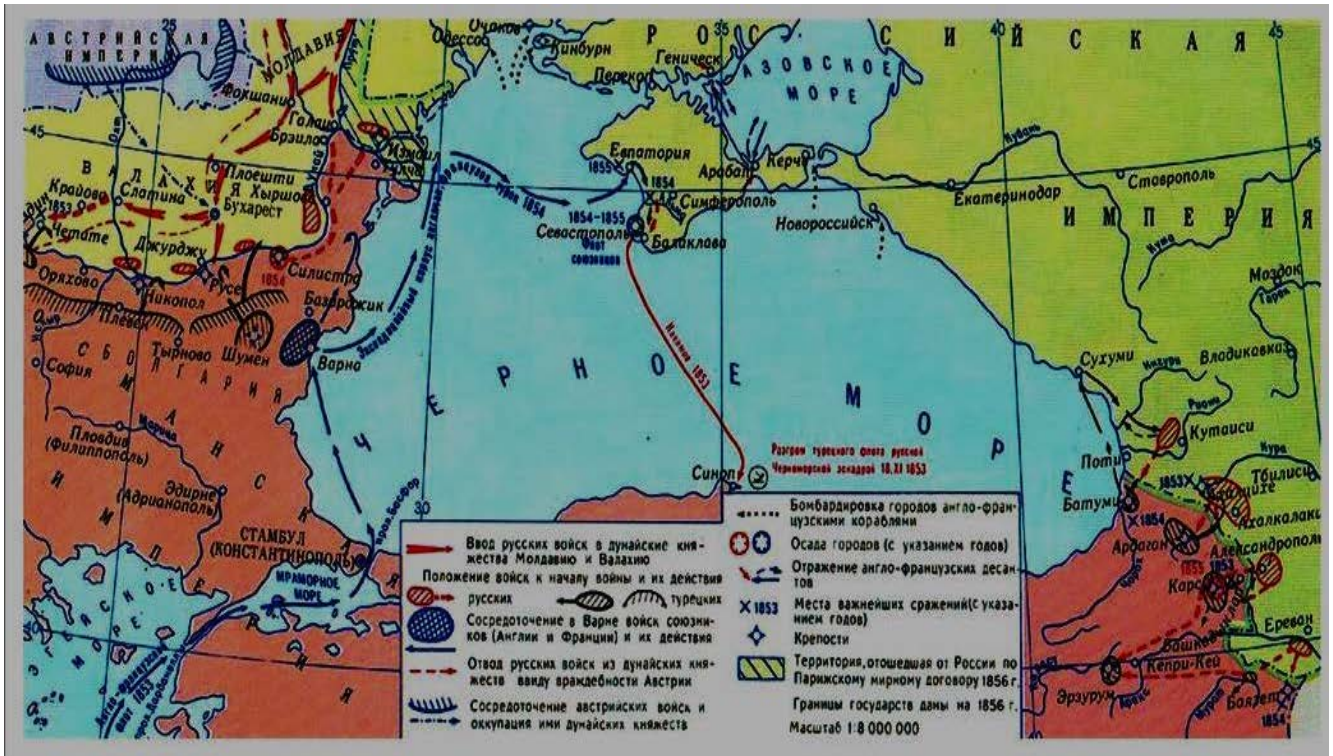
16. Какие суждения, относящиеся к данной схеме, являются верными? Выберите три суждения из шести предложенных. Запишите в таблицу цифры, под которыми они указаны.

- 1) на схеме изображены события русско-турецкой войны 1853-1856 гг.
- 2) по итогам войны, события которой изображены на схеме, Сербия, Румыния, Черногория получили независимость
- 3) участниками войны, события которой изображены на схеме, были М.Д. Скобелев и Н.И. Пирогов
- 4) война, события которой изображены на схеме, была начата Османской империей
- 5) одним из результатов войны, события которой изображены на схеме, стало подписание международной декларации о нейтральном режиме Чёрного моря
- 6) итоги войны, события которой изображены на карте, были пересмотрены Берлинским конгрессом не в пользу России и её союзников

Ответ:

--	--	--

21. Рассмотрите схему и выполните задание 13-16



13. Напишите название события, изображённого на карте.

14. Напишите название города, защита который погиб адмирал Нахимов.

15. Напишите цифру, которой обозначено место последнего сражения парусных флотов.

16. Какие суждения, относящиеся к событиям, обозначенным на схеме, являются верными?

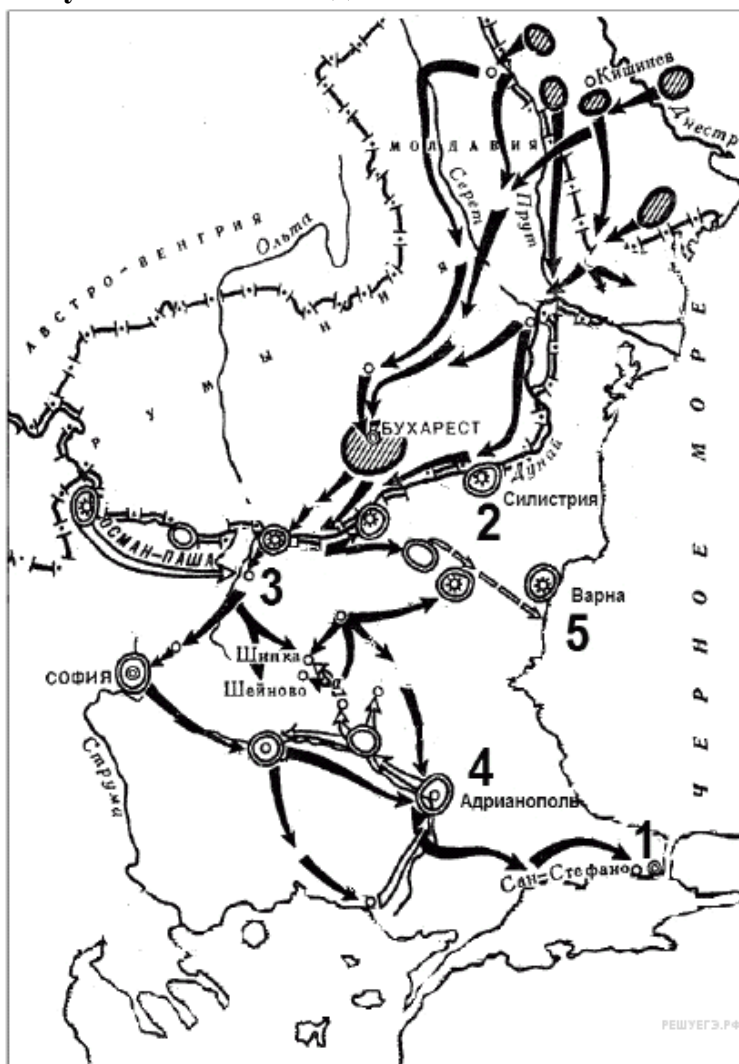
Выберите три суждения из шести предложенных. Запишите в таблицу цифры, под которыми они указаны.

- 1) Участником войны был адмирал Ф. Ф. Ушаков.
- 2) Война завершилась подписанием Парижского мира.
- 3) Соперниками России в войне были Франция и Австрия.
- 4) После войны в России наступила эпоха реформ.
- 5) Россия получила право контроля над проливом Босфор
- 6) Во время войны в России произошла смена императоров

Ответ:

--	--	--

22. Рассмотрите схему и выполните задания 13-16



13. Напишите имя российского императора, к годам правления которого относится данная война.

14. Напишите название города, который обозначен на карте цифрой «1».

15. Напишите название обозначенной на карте цифрой «3» крепости, которая в ходе войны длительный период осаждалась основными силами русской армии.

16. Какие суждения, относящиеся к схеме, являются верными?

Выберите три суждения из шести предложенных.

- 1) Результатом войны стало приобретение независимости Грецией.
- 2) Во время войны особо отличился русский полководец М. Д. Скобелев.
- 3) Война получила название Крымской.
- 4) Союзником России в этой войне была Великобритания.
- 5) Противником России в этой войне была Османская империя.
- 6) По условиям мирного договора, заключённого по итогам этой войны, Сербия получила независимость.

Ответ:

___	___	___
-----	-----	-----

23. Рассмотрите схему и выполните задания 13-16



13. Назовите имя российского императора, в годы правления которого произошли события, обозначенные на схеме.

14. Укажите название города, обозначенного на схеме цифрой «1».

15. Укажите название сражения, район которого заштрихован и обозначен на схеме цифрой «2».

16. Какие суждения, относящиеся к событиям, обозначенным на схеме, являются верными? Выберите три суждения из шести предложенных. Запишите в таблицу цифры, под которыми они указаны.

1) Одним из участников событий, изображённых на схеме, был адмирал С.О. Макаров.

2) В событиях, обозначенных на схеме, участвовали корабли Балтийского флота России.

3) Мирный договор по итогам войны, события которой обозначены на схеме, был подписан в Ништадте.

4) Боеприпасы и пополнение для русской армии в ходе войны, события которой обозначены на схеме, поставлялись по железной дороге.

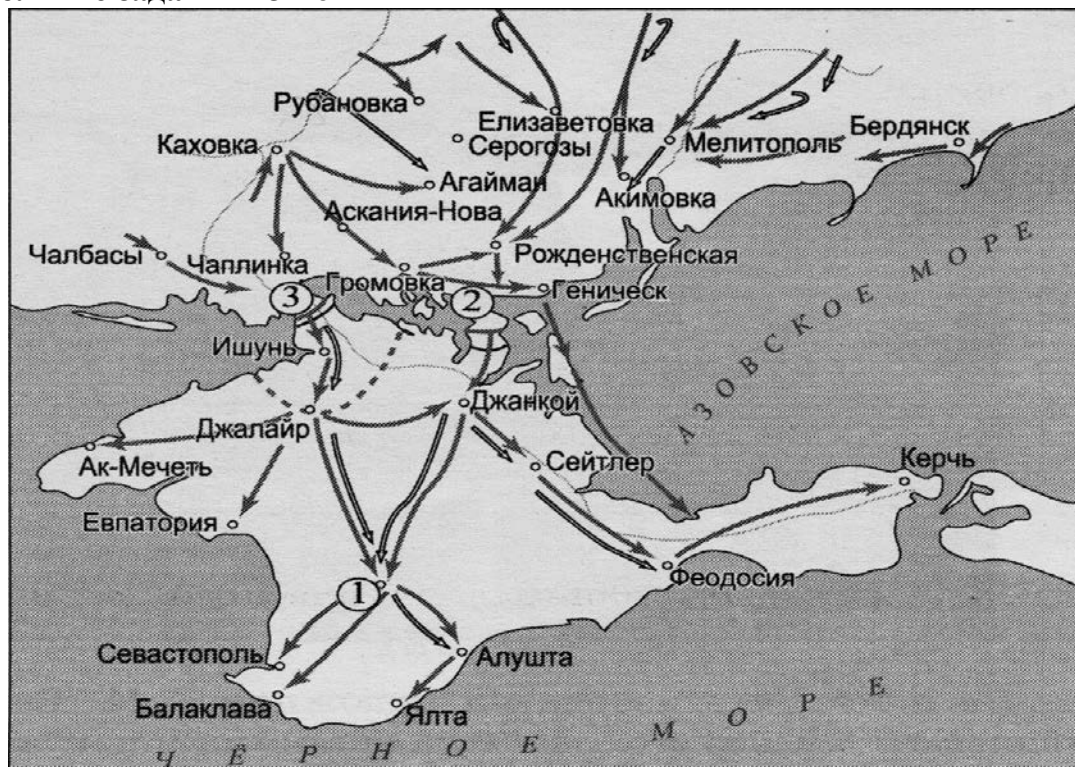
5) В результате войны, события которой обозначены на схеме, Россия получила новые территории.

6) В ходе войны, события которой обозначены на схеме, союзницей России была Англия.

Ответ:

--	--	--

24. Рассмотрите схему событий одного из периодов Гражданской войны в России и выполните задания 13-16



13. Какое слово (словосочетание) пропущено в предложении: «События, обозначенные на схеме, окончились в тысяча девятьсот _____ году»?
 Ответ напишите словом (словами).

14. Укажите название города, в котором находилась ставка главнокомандующего белогвардейскими войсками (обозначен на схеме цифрой «1»).

15. Укажите название залива, который форсировала Красная Армия (обозначено на схеме цифрой «2»).

16. Какие суждения, относящиеся к событиям, обозначенным на схеме, являются верными?

Выберите три суждения из шести предложенных.

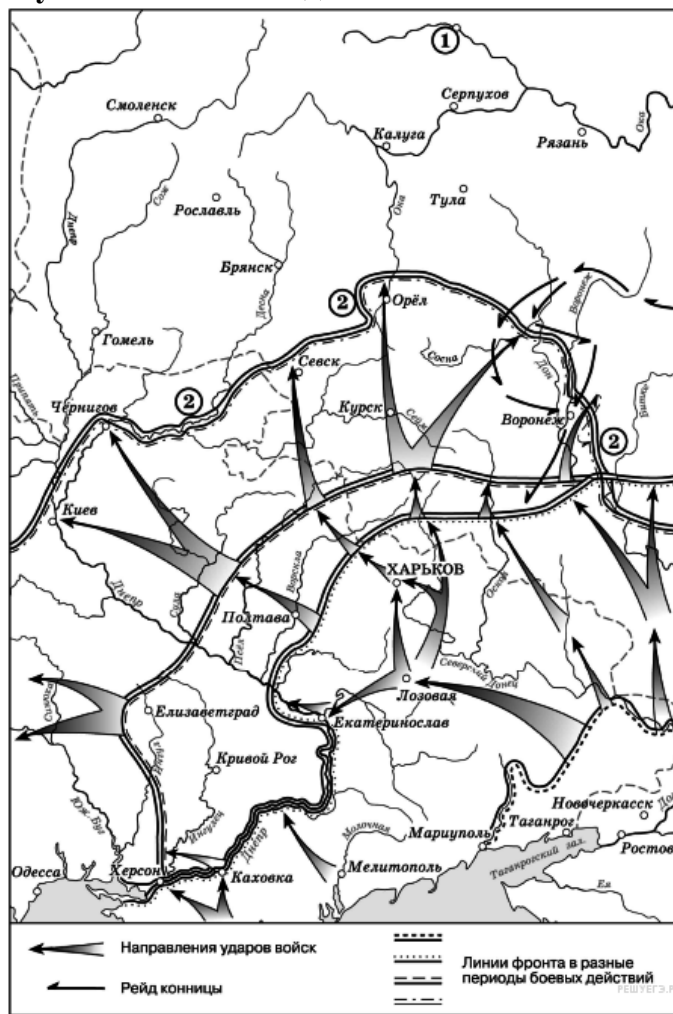
Запишите в таблицу цифры, под которыми они указаны.

- 1) цифрой «3» на схеме обозначен город Перекоп
- 2) одним из военачальников красных, принимавших участие в событиях, обозначенных на схеме, был М.В. Фрунзе
- 3) главнокомандующим белогвардейскими войсками, принимавшими участие в событиях, обозначенных на схеме, являлся А.В. Колчак
- 4) с окончанием событий, обозначенных на схеме, Гражданская война в Европейской части России была завершена
- 5) Рижский мирный договор России с Польшей был подписан ранее окончания событий, обозначенных на схеме
- 6) события, обозначенные на схеме, происходили в условиях продолжавшейся Первой мировой войны.

Ответ:

--	--	--

25. Рассмотрите схему и выполните задания 13-16



13. Рассмотрите схему действий белогвардейцев в ходе одного из периодов Гражданской войны в России и укажите фамилию главнокомандующего белогвардейскими войсками, достигшими линии, обозначенной на схеме цифрой «2».

14. Напишите пропущенное слово: «События, обозначенные на схеме, происходили в тысяча девятьсот _____ году».

15. Укажите название города, обозначенного цифрой «1» и являвшегося целью похода белогвардейских войск, действия которых показаны на схеме.

16. Какие суждения, относящиеся к событиям, обозначенным на схеме, являются верными? Выберите три суждения из шести предложенных. Запишите в таблицу цифры, под которыми они указаны.

1) Значительный урон тылам белогвардейских войск, действия которых обозначены на схеме, наносила армия Н. П. Махно.

2) После разгрома белогвардейских войск, действия которых обозначены на схеме, их командующий эмигрировал из России.

3) В период событий, обозначенных на схеме, большевики проводили НЭП.

4) Главнокомандующий Белой армией, действия которой обозначены на схеме, имел титул Верховного правителя России.

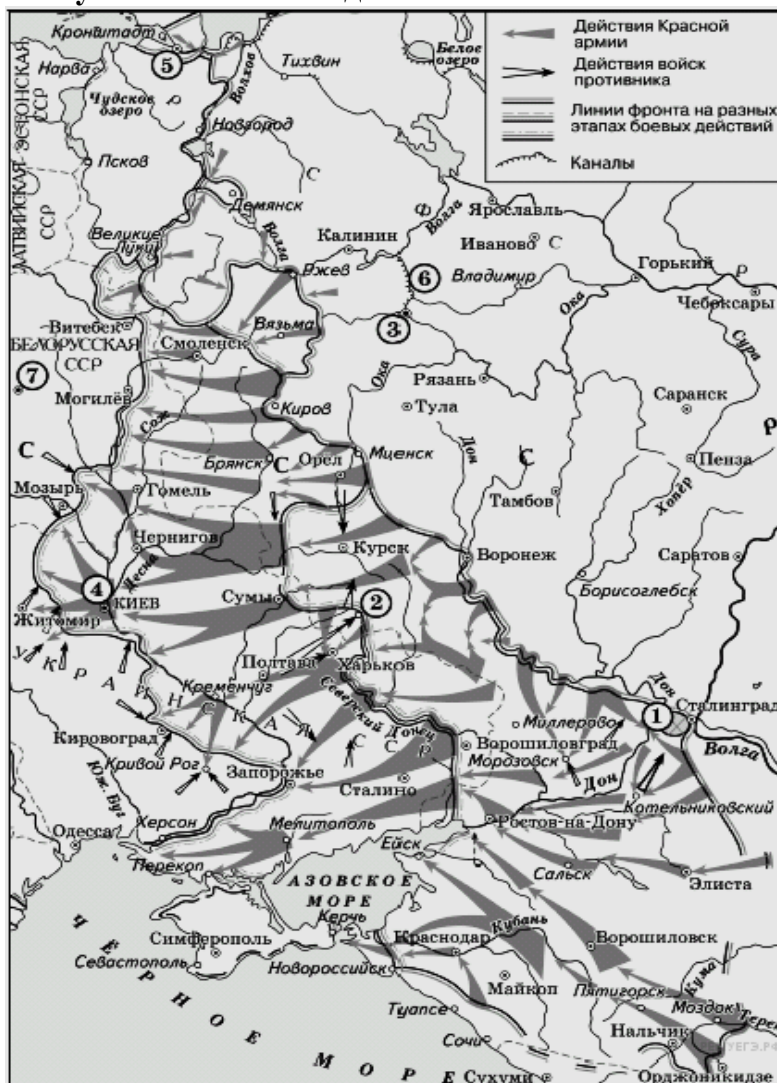
5) Белогвардейская армия, действия которой обозначены на схеме, получала оружие и боеприпасы от стран Антанты.

6) В ходе последующих событий, произошедших сразу после обозначенных на схеме, белым удалось захватить г. Тулу.

Ответ:

--	--	--

26. Рассмотрите схему и выполните задания 13-16



13. Заполните пропуск в предложении: «Город, обозначенный на схеме цифрой "7", был освобождён от фашистов в тысяча девятьсот _____ г.».

14. Укажите месяц, когда от фашистов был освобождён город, обозначенный на схеме цифрой «2».

15. Укажите название операции по уничтожению окружённой немецкой группировки, обозначенной на схеме цифрой «1».

16. Какие суждения, относящиеся к данной схеме, являются верными? Выберите три суждения из шести предложенных. Запишите в таблицу цифры, под которыми они указаны.

1) Операция советских войск в районе, обозначенном на схеме цифрой «4», началась в осенний период.

2) В период событий, обозначенных на схеме стрелками, полностью была снята блокада с города, обозначенного на схеме цифрой «5».

3) Город, обозначенный на схеме цифрой «3», в ходе событий, предшествующих обозначенным на схеме стрелками, был захвачен фашистами.

4) Строительство канала, обозначенного на схеме цифрой «6», началось в 1930-е гг.

5) Более двух городов, обозначенных на схеме, в настоящее время имеют другие названия.

6) На данной схеме обозначена территория Польши

Ответ:

--	--	--

27. Рассмотрите схему и выполните задания 13-16



13. Укажите название города, обозначенного на схеме цифрой «1»

14. Назовите месяц, в котором советские войска прорвали обозначенную на схеме линию фронта и перешли в контрнаступление.

15. Назовите фамилию сержанта, защищавшего с группой бойцов дом, ставший символом героизма защитников города, обозначенного на схеме цифрой «1».

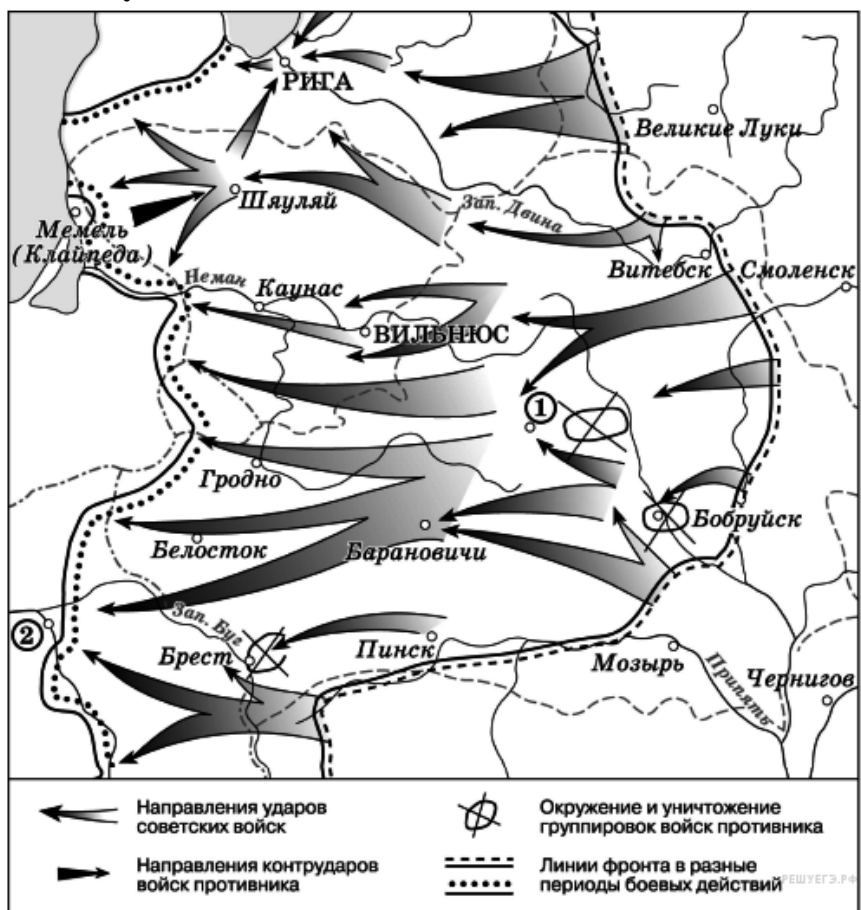
16. Какие суждения, относящиеся к событиям, обозначенным на схеме, являются верными? Выберите три суждения из шести предложенных. Запишите в таблицу цифры, под которыми они указаны.

- 1) события, обозначенные на схеме, являются частью коренного перелома в ходе Великой Отечественной войны
- 2) в событиях, обозначенных на схеме, принимали участие войска 64-й армии под командованием М.С. Шумилова
- 3) в ходе последующих событий немецким войскам удалось форсировать реку Волгу и выйти на её левый берег в районе, обозначенном на данной схеме
- 4) в событиях, обозначенных на схеме, принимали участие войска 6-й немецкой армии под командованием немецкого военачальника Ф. Паулюса
- 5) основные события, обозначенные на схеме, происходили на территории Украинской ССР
- 6) операция Красной Армии «Уран» была проведена в одном из районов, обозначенных на данной схеме.

Ответ:

--	--	--

28. Рассмотрите схему и выполните задания 13-16



13. Продолжите фразу: «События, обозначенные на схеме стрелками, начались в тысяча девятьсот _____ году».

14. Укажите название города, обозначенного на схеме цифрой «1».

15. Укажите название столицы государства, обозначенной на схеме цифрой «2».

16. Какие суждения, относящиеся к событиям, обозначенным на схеме, являются верными? Выберите три суждения из шести предложенных. Запишите в таблицу цифры, под которыми они указаны.

1) События, обозначенные на схеме, являются частью коренного перелома в ходе Великой Отечественной войны.

2) События, обозначенные на схеме, произошли после открытия союзниками Второго фронта в Европе

3) На схеме обозначены действия Красной армии в ходе проведения операции «Уран».

4) Город Кенигсберг был взят Красной армией в ходе событий, обозначенных на данной схеме.

5) На схеме обозначены действия Красной армии в ходе проведения операции «Багратион».

6) В ходе событий, обозначенных на схеме, территория Белорусской ССР была полностью освобождена от немецко-фашистских захватчиков.

Ответ:

--	--	--

29. Рассмотрите схему и выполните задания 13-16



13. Напишите название города, обозначенного на карте цифрой «1».

14. Напишите название города, обозначенного на карте цифрой 2, в районе которого произошло соединение двух фронтов Красной армии.

15. Укажите название периода в ходе войны, начало которому положили события, обозначенные на карте.

16. Какие суждения, относящиеся к событиям, обозначенным на схеме, являются верными?

Выберите три суждения из шести предложенных.

Запишите в таблицу цифры, под которыми они указаны.

- 1) На карте отображены события лета 1942 года.
- 2) На карте обозначены боевые действия Красной армии в ходе операции «Уран».
- 3) На карте обозначено самое крупное встречное танковое сражение войны.
- 4) На карте обозначены боевые действия в ходе операции «Цитадель».
- 5) Участниками событий, отображенных на карте, были М. А. Егоров и М. В. Кантария.
- 6) Участником событий, означенных на карте, был К.К. Рокоссовский.

Ответ:

--	--	--

30. Рассмотрите схему и выполните задание



13. Укажите название военно-политического блока, в который в середине 1960-х гг. входили страны, заштрихованные на схеме.

14. Укажите фамилию руководителя СССР, при котором в страну, обозначенную на схеме цифрой «3», были введены советские войска.

15. Одной из цифр на схеме обозначена страна, никогда не входившая в военную организацию (военный блок), в которую в середине 1960-х гг. входили все остальные страны, обозначенные цифрами. Укажите название этой страны.

16. Какие суждения, относящиеся к событиям, обозначенным на схеме, являются верными? Выберите три суждения из шести предложенных. Запишите в таблицу цифры, под которыми они указаны.

1) Испания в середине 1960-х гг. входила в один из противостоящих друг другу военных блоков.

2) На данной схеме отражён раскол Германии на два государства.

3) На схеме обозначены все страны, избравшие социалистический путь развития на период середины 1960-х гг.

4) Все страны, обозначенные на схеме цифрами, в годы Великой Отечественной войны были освобождены Красной армией или при её активном участии.

5) В настоящее время существуют оба военно-политических блока, противостоявших друг другу в период, показанный на схеме.

6) Данная схема характеризует международное положение, сложившееся в период «холодной войны».

Ответ:

--	--	--

31. Рассмотрите схему и выполните задания 13-16



13. Напишите название государства (аббревиатуру), создание которого показано на схеме.

14. Напишите название республики, обозначенной на схеме цифрой «2».

15. Укажите краткое название (аббревиатуру) республики, обозначенной на схеме цифрой и располагавшейся в двух частях света.

16. Какие суждения, относящиеся к событиям, обозначенным на схеме, являются верными?

Выберите три суждения из шести предложенных.

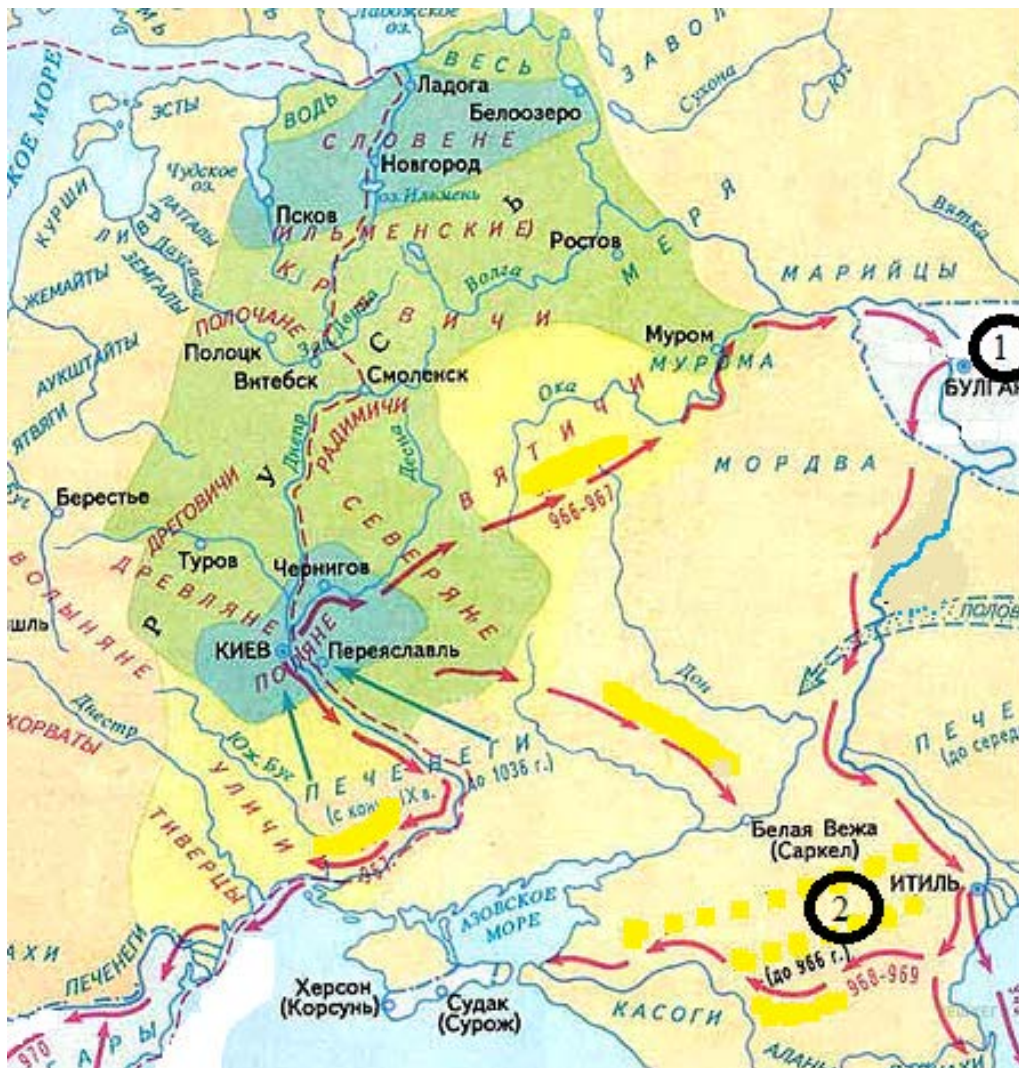
Запишите в таблицу цифры, под которыми они указаны.

- 1) Конституция государства была принята в 1927 г.
- 2) новое государство было создано в 1922 г.
- 3) государство не имело общей границы с Германией
- 4) государство было унитарным
- 5) в указанных границах государство просуществовало до 1991 г.
- 6) государство было федеративным

Ответ:

--	--	--

32. Рассмотрите схему и выполните задание



13. Назовите имя великого Киевского князя, чьи завоевательные походы указаны стрелками.

14. Напишите название государства, обозначенного на схеме цифрой «1».

15. Напишите название государства, обозначенного на схеме цифрой «2».

16. Какие суждения, относящиеся к походам князя, обозначенным на схеме, являются верными. Выберите три суждения из шести предложенных. Запишите в таблицу цифры, под которыми они указаны.

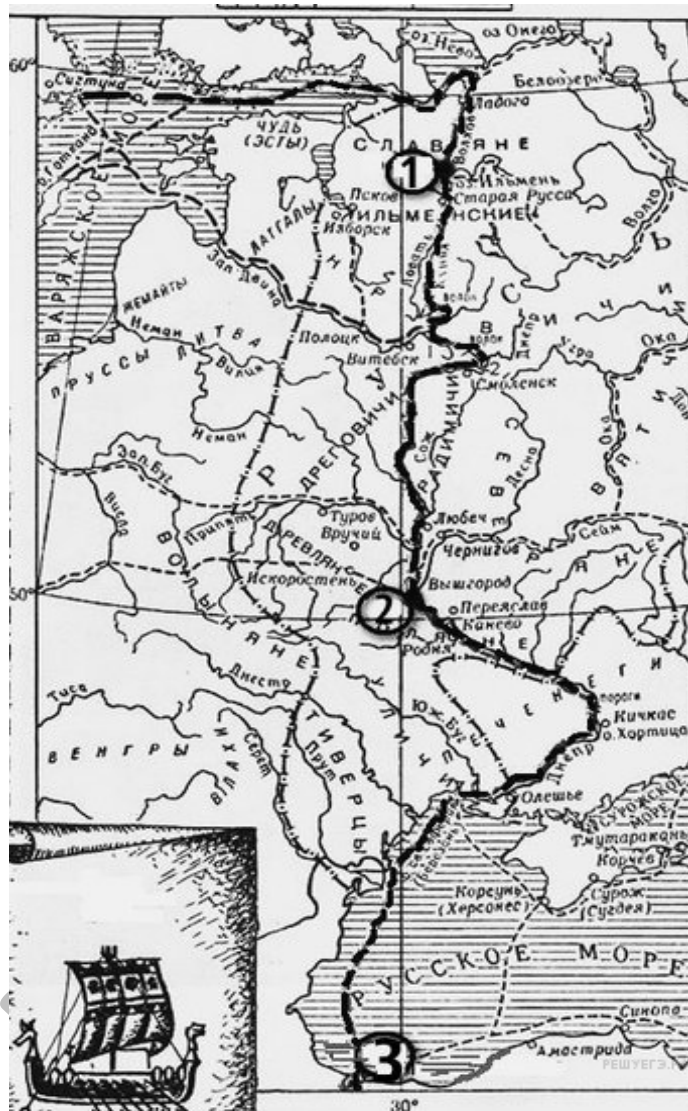
- 1) Киевский князь, чьи походы указаны на карте, разгромил и уничтожил Хазарский каганат
- 2) врагами Древнерусского государства на степных границах в первой половине X в. были половцы
- 3) во время одного из походов Киевский князь заложил город-крепость Корсунь
- 4) указанные на карте походы укрепили могущество Киевской Руси
- 5) Киевскому князю не удалось перенести столицу государства на Дунай
- 6) одновременно с завоеванием новых земель великий Киевский князь распространял христианство к востоку от Руси

33. Рассмотрите схему и выполните задание



13. Напишите название войны, события которой отражены на карте.
14. Напишите название города, в который был совершён карательный поход правительственных войск, сопровождавшийся массовыми убийствами.
15. Напишите цифру, которая обозначает «неофициальную столицу» государства после отъезда царя из Москвы.
16. Какие суждения, относящиеся к событиям, обозначенным на схеме, являются верными? Выберите три суждения из шести предложенных. Запишите в таблицу цифры, под которыми они указаны.
- 1) Россия победила в этой войне.
 - 2) Во время войны правительство сняло ограничения на право перехода крестьян к другому хозяину.
 - 3) Противником России в войне была Швеция.
 - 4) Во время войны образовалось новое государство Речь Посполитая.
 - 5) В ходе войны произошло ужесточение внутренней политики.
 - 6) Война проходила в завершающий период образования единого Русского государства.

34. Рассмотрите схему и выполните задание



13. Напишите название отмеченного на карте пути.

14. Напиши имя князя, который установил контроль над этим торговым путем.

15. Напиши цифру, обозначающую город, который на Руси называли Царьград.

16. Какие суждения, относящиеся к событиям, обозначенным на схеме, являются верными? Выберите три суждения из шести предложенных. Запишите в таблицу цифры, под которыми они указаны.

- 1) Этот торговый путь был одним из важнейших в Европе в этот период.
- 2) Основным торговым партнером Руси в этот период была Византия.
- 3) Русские князья начали совершать военные походы на Византию в начале X века.
- 4) Основными союзниками русских князей в конце IX — начале X века были печенеги.
- 5) Основными предметами экспорта были благовония и фрукты.
- 6) Население Древней Руси платило дань великому князю за управление русскими землями.

35. Рассмотрите схему и выполните задание



13. Напишите имя князя, осуществившего походы, обозначенные на схеме стрелками.

14. Напишите название города, обозначенного на схеме цифрой «1».

15. Напишите цифру, которой обозначено государство, созданное кочевым народом, в политической зависимости от которого находилась часть восточнославянских племенных союзов, но в ходе предпринятых киевским князем походов был нанесен сокрушительный удар: он захватил и разорил главные его города Итиль, Семендер, Самкерц (русс. Тмутаракань) и Саркел, основав на месте последнего крепость Белая Вежа.

16. Какие суждения, относящиеся к событиям, обозначенным на схеме, являются верными? Выберите суждения из шести предложенных. Запишите в таблицу цифры, под которыми они указаны.

1) На данной карте стрелками обозначены походы Ярослава Мудрого против половцев.

2) О первых самостоятельных шагах князя «Повесть временных лет» сообщает с 964 года, когда «пошёл на Оку реку и на Волгу, и встретил вятичей»: в результате похода вятичи были временно подчинены Киевской Руси.

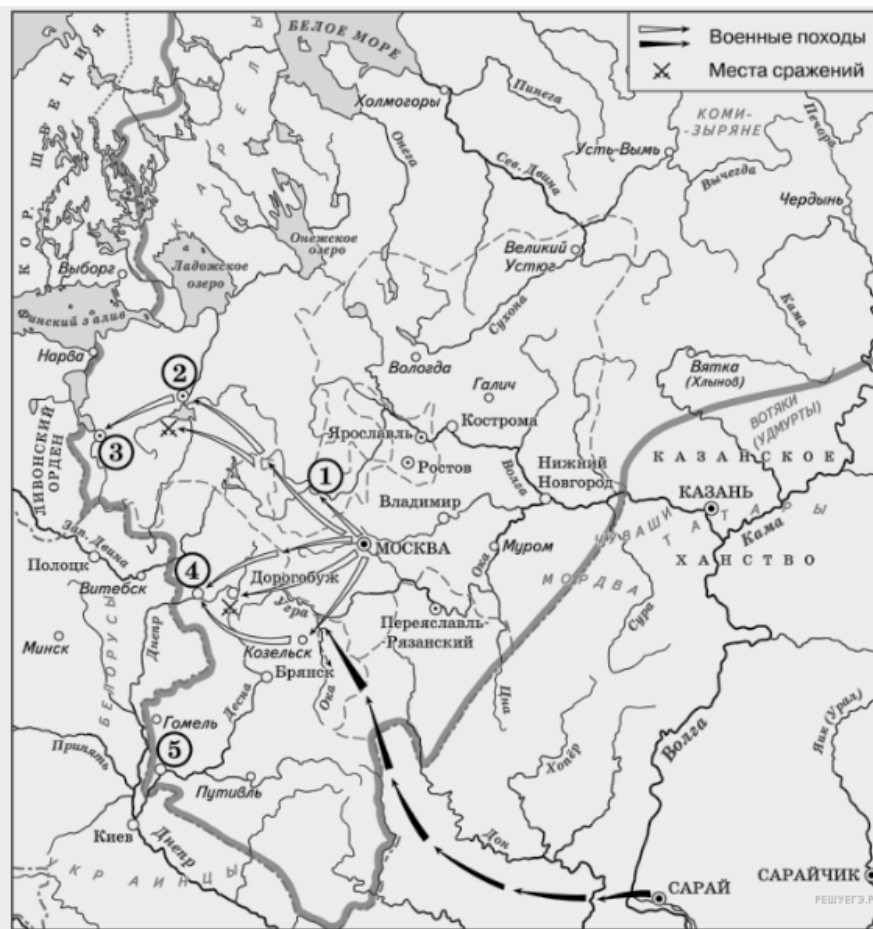
3) Во время походов князь «смирил» печенегов и заставил их платить дань Киеву».

4) По сведениям древнерусской летописи, победоносный полководец вплотную подошёл к Царьграду, но отступил, лишь взяв большую дань и закончив войну против Византийской империи подписанием мира.

5) В результате ратных походов (964–972 гг.), обозначенных на схеме, князь с дружиной победил Хазарию и Волжскую Болгарию, ослабил и устрасил Византийскую Империю, открыл пути для торговли Руси с восточными странами.

6) Балканские завоевания были утрачены, но победы на Волге, на Дону и в Приазовье были закреплены. Это дало возможность взять под контроль Великий Волжский путь, который соединяет Русь, Скандинавию и Каспий.

36. Рассмотрите схему и выполните задание



13. Назовите князя, в годы правления которого в состав единого Русского государства вошли города, обозначенные на схеме цифрами «1» и «2».

14. Укажите век, когда в состав единого Русского государства вошли города, обозначенные на схеме цифрами «3», «4» и «5» (ответ напишите словом).

15. Назовите князя, при котором Русское государство достигло границ, обозначенных на схеме жирной чертой.

16. Какие суждения, относящиеся к данной схеме, являются верными? Выберите три суждения из шести предложенных. Запишите в таблицу цифры, под которыми они указаны.

1) В городах, обозначенных цифрами «2» и «3», до вхождения в состав единого Русского государства существовала республиканская форма правления.

2) Следствием провала похода, обозначенного чёрными стрелками, стало освобождение Русского государства от ордынского ига.

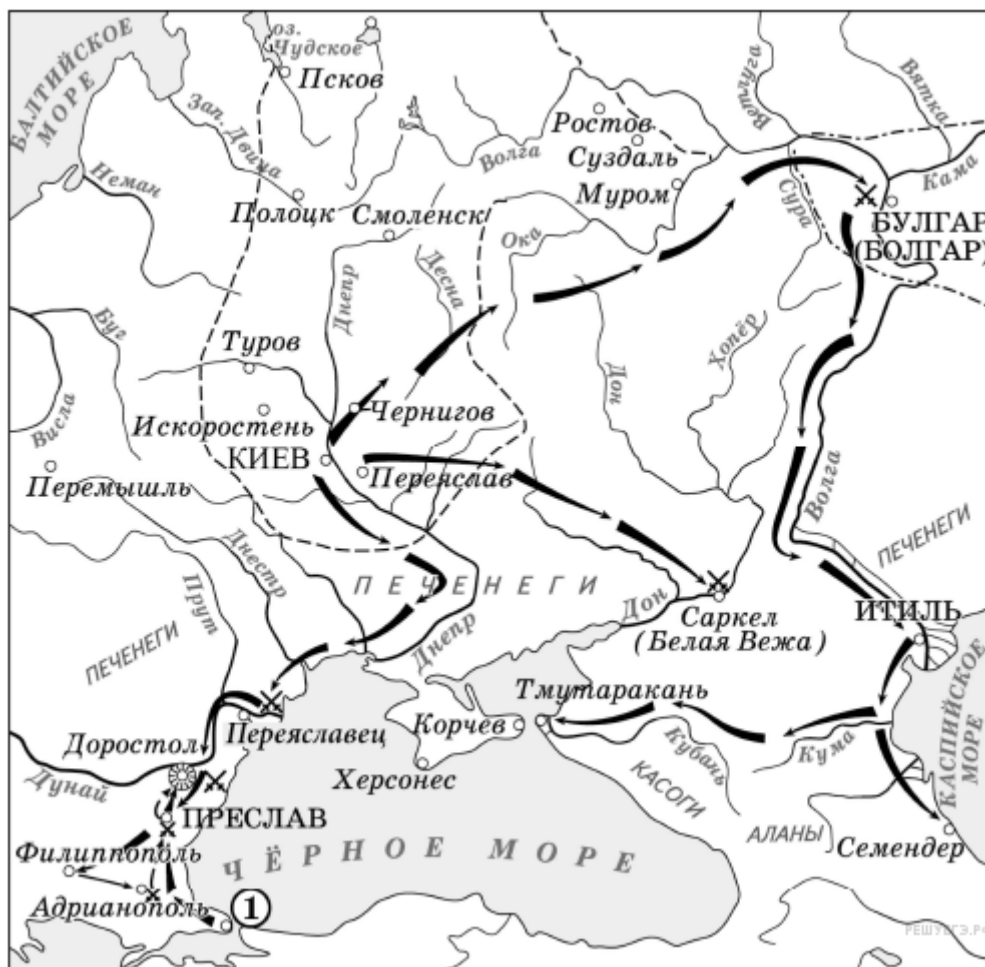
3) Город, обозначенный цифрой «1», вошёл в состав единого Русского государства в 1478 г.

4) Ордынское войско в походе, обозначенном чёрными стрелками, возглавлял Мамай.

5) Город, обозначенный цифрой «2», вошёл в состав единого Русского государства в 1485 г.

6) Города, обозначенные цифрами «4» и «5», были отвоёваны Русским государством у Великого княжества Литовского.

37. Рассмотрите схему и выполните задание



13. В каком веке происходили события, обозначенные на схеме? Ответ запишите словом.

14. Назовите князя, совершившего походы, обозначенные на схеме стрелками.

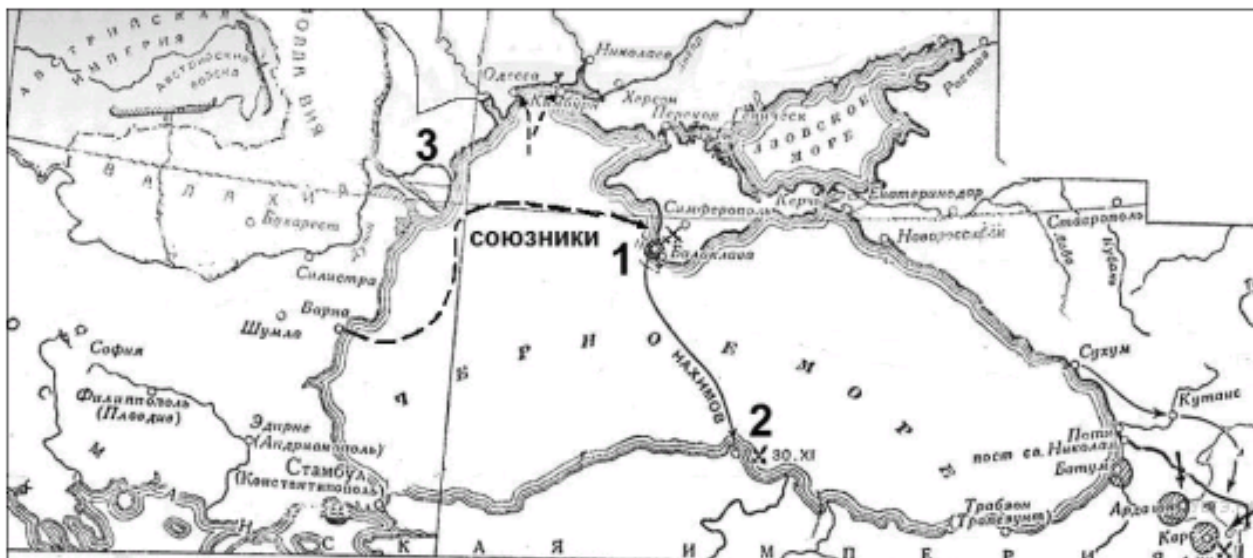
15. Укажите название столицы государства, обозначенной на схеме цифрой «1».

16. Какие суждения, относящиеся к исторической ситуации, обозначенной на схеме, являются верными? Выберите три суждения из шести предложенных.

Запишите в таблицу цифры, под которыми они указаны.

- 1) Все походы военачальника, обозначенные на схеме, были удачными для него.
- 2) Военачальник, походы которого обозначены на схеме, вёл первую в истории Древнерусского государства войну с Византией.
- 3) Военачальник, походы которого обозначены на схеме, погиб во время возвращения с очередной войны.
- 4) В ходе походов, обозначенных на схеме, был разгромлен Хазарский каганат.
- 5) На схеме указано название народа, в бою с представителями которого погиб военачальник, чьи походы обозначены на схеме.
- 6) Согласно летописи военачальник, руководивший походами, обозначенными на схеме, принял христианство.

38. Рассмотрите схему и выполните задание



13. Напишите название войны, события которой изображены на схеме.

14. Напишите название города, обозначенного на схеме цифрой «1».

15. Напишите название бухты, где произошло одно из сражений данной войны, обозначенной на схеме цифрой «2».

16. Какие суждения, относящиеся к событиям, связанным со схемой, являются верными? Выберите три суждения из шести предложенных. Запишите в таблицу цифры, под которыми они указаны.

- 1) союзником России в этой войне была Австрийская империя
- 2) одним из соперников России в этой войне была Франция
- 3) в ходе войны сменился правитель России
- 4) обозначенная на схеме цифрой «3» территория была присоединена к России по итогам войны
- 5) сражение в бухте, обозначенной на схеме цифрой «2», стало последним крупным сражением парусного флота.
- 6) русские войска в период этой войны возглавлял А. В. Суворов.

39. Рассмотрите схему и выполните задание




13. Назовите монарха, в период правления которого в состав Российского государства вошёл город, обозначенный на схеме цифрой «3».


14. Заполните пропуск в предложении: «Одна из крупнейших ярмарок России в XVII–XVIII вв. — _____ — обозначена на схеме цифрой "4"».

15. Заполните пропуск в предложении: «Цифрой "1" на схеме обозначен город _____, в непосредственной близости от которого были построены первые в России железодельные заводы».

16. Какие суждения, относящиеся к данной схеме, являются верными? Выберите три суждения из шести предложенных. Запишите в таблицу цифры, под которыми они указаны.

1) Крупными центрами кожевенного производства согласно схеме были Тверь, Калуга, Смоленск.

2) Горизонтальной штриховкой  на схеме обозначены районы, специализировавшиеся на пушном промысле.

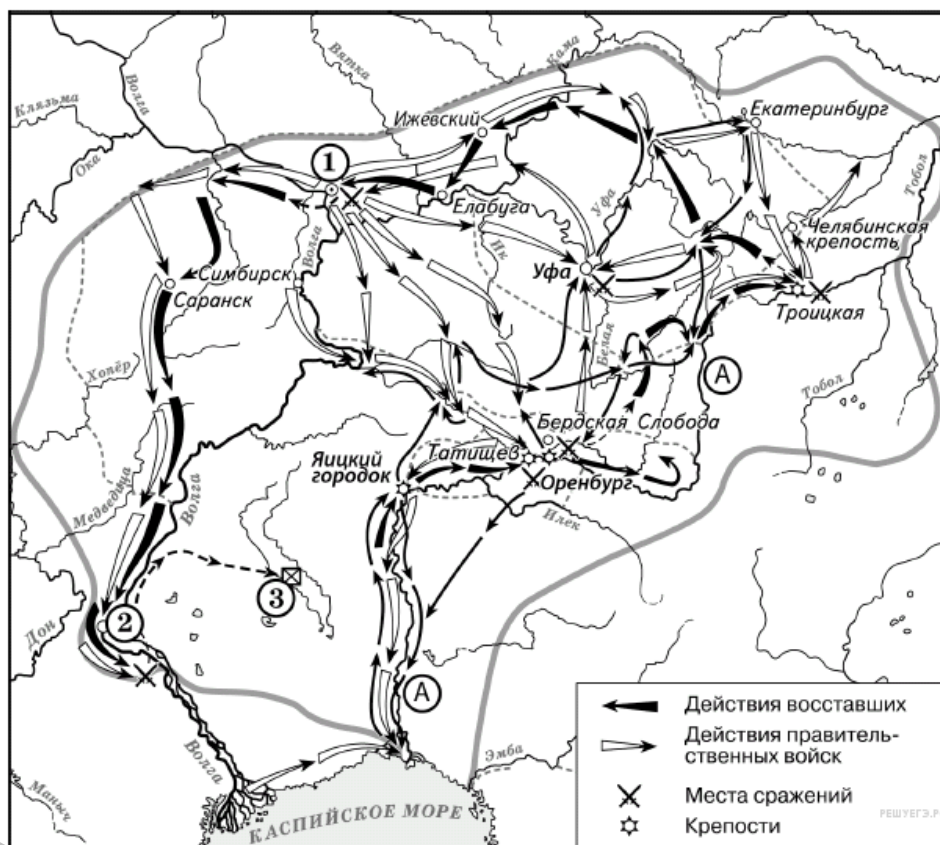
3) Точечным узором  на схеме обозначен основной район производства льна и пеньки.

4) Цифрой «6» на схеме обозначена река, название которой было изменено в результате крупного народного восстания, произошедшего в том же веке, в котором установились границы Европейской части России, обозначенные на схеме.

5) Цифрой «5» на схеме обозначен город, вошедший в состав Российского государства в период правления Ивана IV.

6) Цифрой «2» на схеме обозначен Архангельск.

40. Рассмотрите схему и выполните задание



13. Укажите век, в котором происходили события, обозначенные на схеме. Ответ запишите словом.

14. Напишите название реки, обозначенной буквой «А», после завершения изображённых на схеме событий.

15. Напишите название города, обозначенного на схеме цифрой «1», у которого войска, чьи действия обозначены белыми стрелками, одержали победу.

16. Какие суждения, относящиеся к данной схеме, являются верными? Выберите три суждения из шести предложенных. Запишите в таблицу цифры, под которыми они указаны.

- 1) На схеме изображён ход крупнейшего народного восстания.
- 2) Участником событий, изображённых на схеме, был казачий атаман Василий Ус.
- 3) Вооружённые отряды, действия которых обозначены чёрными стрелками, состояли только из казаков и государственных крестьян.
- 4) У города, обозначенного на схеме цифрой «2», войска, действия которых обозначены чёрными стрелками, одержали крупную победу.

42. Рассмотрите схему и выполните задание



13. Назовите российского императора, в период правления которого произошли события, обозначенные на схеме.

14. Укажите название полуострова, обозначенного на схеме цифрой «1».

15. Назовите киевского князя, в период правления которого произошло подписание первого письменного договора Руси с государством, столица которого обозначена на схеме цифрой «3».

16. Какие суждения, относящиеся к исторической ситуации, обозначенной на схеме, являются верными? Выберите 3 суждения из шести предложенных. Запишите в ответ цифры, под которыми они указаны.

1) Данная схема посвящена войне с государством, столица которого обозначена на схеме.

2) Стрелками чёрного цвета \longrightarrow \dashrightarrow на схеме обозначены военные действия русских войск.

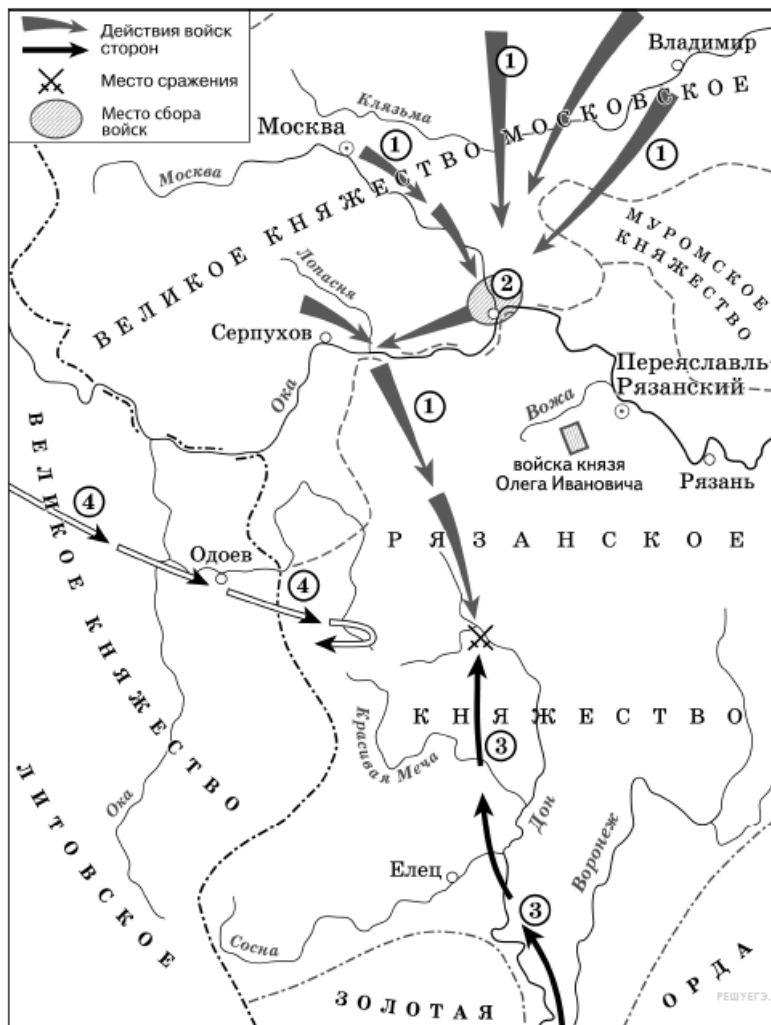
3) Цифрой «4» на схеме обозначен город Порт-Артур.

4) Героический подвиг экипажей крейсера «Варяг» и канонерской лодки «Кореец» был совершён в ходе сражения, обозначенного на схеме цифрой «3».

5) Цифрой «2» на схеме обозначен район крупного морского сражения, в ходе которого русский флот потерпел поражение.

6) На схеме обозначен участок железной дороги, построенной Российской империей, движение по которой было открыто в том же десятилетии, когда произошли обозначенные на схеме события.

43. Рассмотрите схему и выполните задание



13. Укажите век, к которому относится события, обозначенные на схеме. Ответ напишите словом.

14. Укажите название города, обозначенного на схеме цифрой «2».

15. Укажите полководца, возглавившего поход, направление которого обозначено на схеме цифрой «3».

16. Какие суждения, относящиеся к исторической ситуации, обозначенной на схеме, являются верными? Выберите три суждения из шести предложенных. Запишите в таблицу цифры, под которыми они указаны.

1) Действиями войск, направление движения которых обозначено на схеме цифрой «1», руководил князь – основатель династии московских князей.

2) Цифрой «4» на схеме обозначено направление движения войск под руководством литовского князя Ягайло.

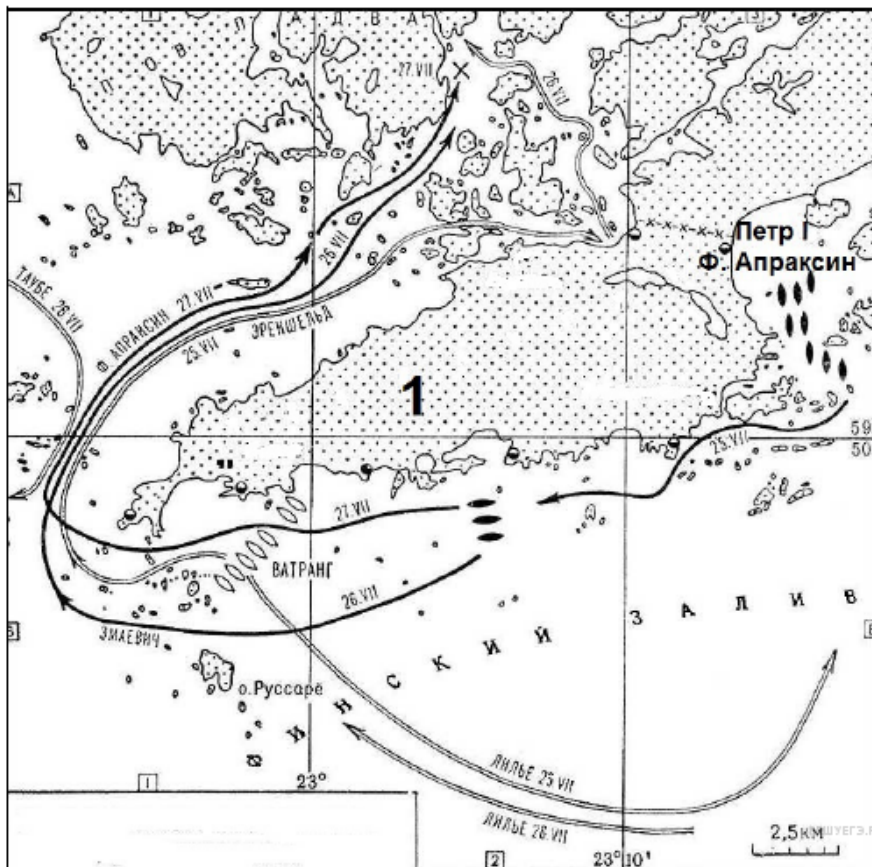
3) В результате сражения, обозначенного на схеме, на Руси было окончательно ликвидировано ордынское владычество.

4) В сражении, обозначенном на схеме, на стороне русских войск принимали участие войска рязанского князя.

5) В период правления князя, руководившего действиями войск, обозначенных на схеме цифрой «1», были возведены белокаменные стены Московского Кремля.

6) На схеме обозначена река, по названию которой было дано прозвище московскому князю, руководившему действиями русских войск, обозначенных на схеме цифрой «1».

44. Рассмотрите схему и выполните задание



13. Напишите название войны, одно из сражений которой изображено на схеме.

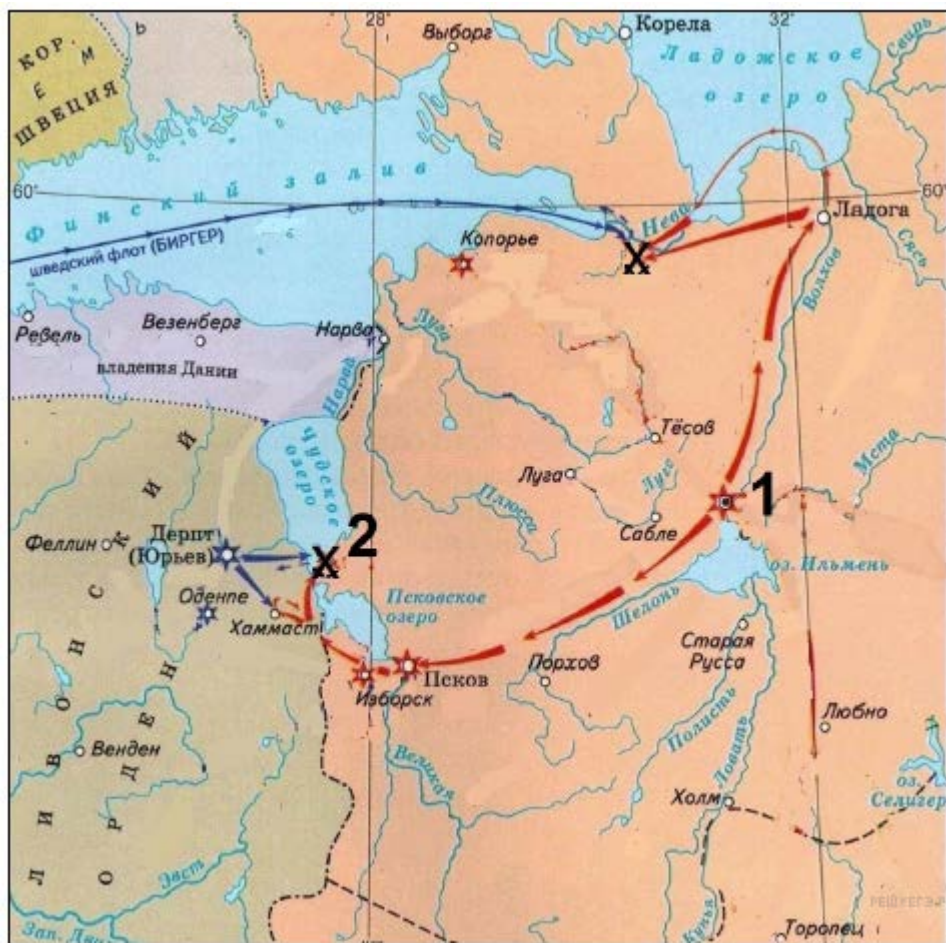
14. Напишите словом век, в котором произошло сражение, изображённое на схеме.

15. Напишите название места обозначенного на схеме сражения.

16. Какие суждения, относящиеся к событиям, обозначенным на схеме, являются верными? Выберите три суждения из шести предложенных. Запишите в таблицу цифры, под которыми они указаны.

- 1) Изображённое на схеме сражение стало первой крупной морской победой России.
- 2) Противником России в войне, события которой изображены на схеме, была Франция.
- 3) Во время войны, к событиям которой относится изображённое на схеме сражение, в России была учреждена Адмиралтейств-коллегия.
- 4) В войне, к событиям которой относится изображённое на схеме сражение, союзником России была Англия.
- 5) В сражении, изображённом на схеме, принимал участие русский царь.
- 6) Победа русских в сражении, изображённом на схеме, была достигнута за счёт их подавляющего превосходства над противником в крупных парусных кораблях.

45. Рассмотрите схему и выполните задание



13. Напишите название русского города, обозначенного на схеме под цифрой «1».

14. Напишите имя и прозвище древнерусского князя, руководившего войсками в битвах, изображенных на схеме.

15. Напишите образное название битвы, обозначенной на схеме цифрой «2».

16. Какие суждения, относящиеся к схеме, являются верными? Выберите три суждения из шести предложенных. Запишите в таблицу цифры, под которыми они указаны.

1) Древнерусский князь, под руководством которого происходили сражения, обозначенные на схеме, прославился также борьбой с Ордой.

2) Сражения, изображенные на схеме, происходили в XIII в.

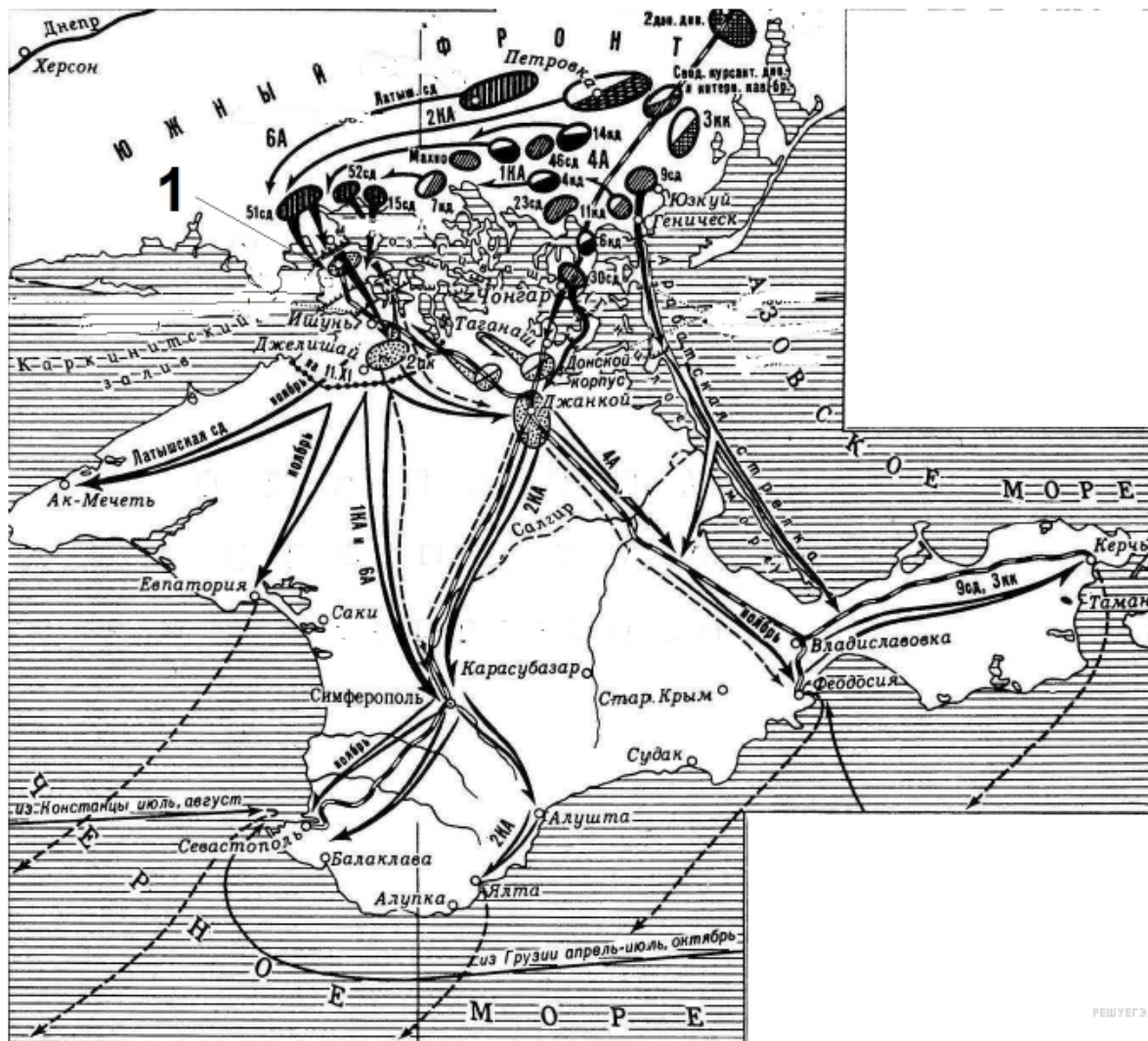
3) В сражении, обозначенном на схеме цифрой «2», противником русских выступали силы Ливонского ордена.

4) Древнерусский князь, под руководством которого происходили сражения, обозначенные на схеме, был основателем Москвы.

5) Особенностью земли, центром которой был город, обозначенный на схеме цифрой «1», были плодородные земли, позволявшие развивать пашенное земледелие.

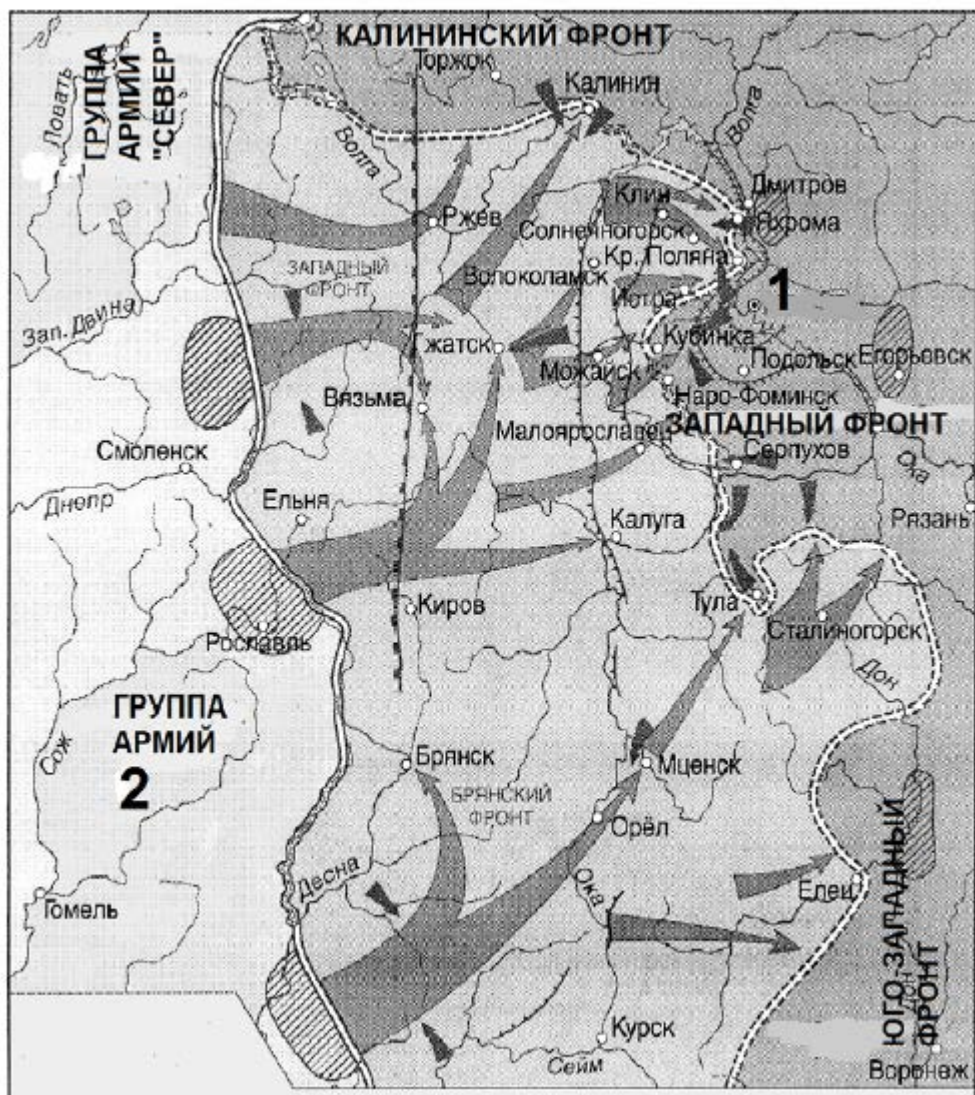
6) В городе, обозначенном на схеме под цифрой «1», долгое время сохранялись традиции вечевой демократии.

46. Рассмотрите схему и выполните задание



13. Напишите фамилию командующего Южным фронтом РККА в этом сражении Гражданской войны.
14. Напишите название укреплений, обозначенных на схеме под цифрой «1».
15. Напишите фамилию главнокомандующего белыми войсками в этих событиях.
16. Какие суждения, относящиеся к событиям, обозначенным на схеме, являются верными? Выберите три суждения из шести предложенных. Запишите в таблицу цифры, под которыми они указаны.
 - 1) Обозначенное на схеме сражение происходило в 1919 г.
 - 2) В том же году, в котором происходили отображённые на схеме события, шла советско-польская война.
 - 3) Это сражение было последним крупным сражением Гражданской войны в Европейской части России.
 - 4) Результатом сражения стала эвакуация остатков белых войск в Константинополь и другие иноземные порты Чёрного моря.
 - 5) В ходе этих событий командующий силами белых был взят в плен и казнён.
 - 6) В том же году, в котором происходили отображённые на схеме события, советские республики объединились в союзное государство.

47. Рассмотрите схему и выполните задание



13. Напишите название города, обозначенного на схеме цифрой «1».

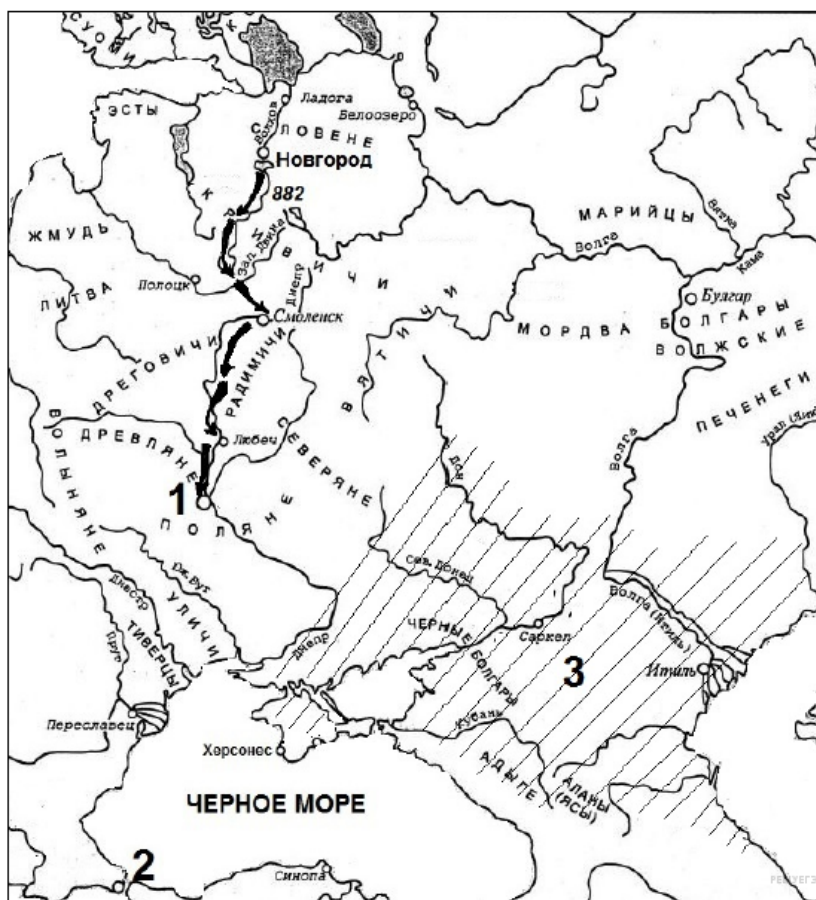
14. Напишите название немецкой группы войск, обозначенной на схеме цифрой «2».

15. Напишите название немецкой военной операции, попытка осуществления которой отображена на схеме.

16. Какие суждения, относящиеся к событиям, обозначенным на схеме, являются верными? Выберите три суждения из шести предложенных. Запишите в таблицу цифры, под которыми они указаны.

- 1) События, отображённые на схеме, относятся к 1942 г.
- 2) Во время изображённых на схеме событий, в столице СССР прошёл парад на Красной площади, вдохновивший советскую армию и советский народ на борьбу с врагом.
- 3) В результате военной операции, отображённой на схеме, противнику удалось овладеть городом Рязанью.
- 4) В ходе битвы, события которой отражены в схеме, особое мужество проявили солдаты и офицеры дивизии генерала И. В. Панфилова.
- 5) События, отражённые на схеме, происходили в осенне-зимний период.
- 6) В данной битве на стороне советских войск было преимущество в авиации.

48. Рассмотрите схему и выполните задание



13. Напишите имя князя, предпринявшего поход, изображённый на схеме.

14. Напишите название города, обозначенного на схеме под цифрой «1».

15. Напишите название существовавшего в период изображённого похода государства, территория которого заштрихована на схеме и обозначена под цифрой «3».

16. Какие суждения, относящиеся к событиям, обозначенным на схеме, являются верными? Выберите три суждения из шести предложенных. Запишите в таблицу цифры, под которыми они указаны.

1) Поход, который отображён на схеме, привел к распаду единого Древнерусского государства.

2) Князь, руководивший походом, изображённом на схеме, предпринял в дальнейшем успешный поход на Византию.

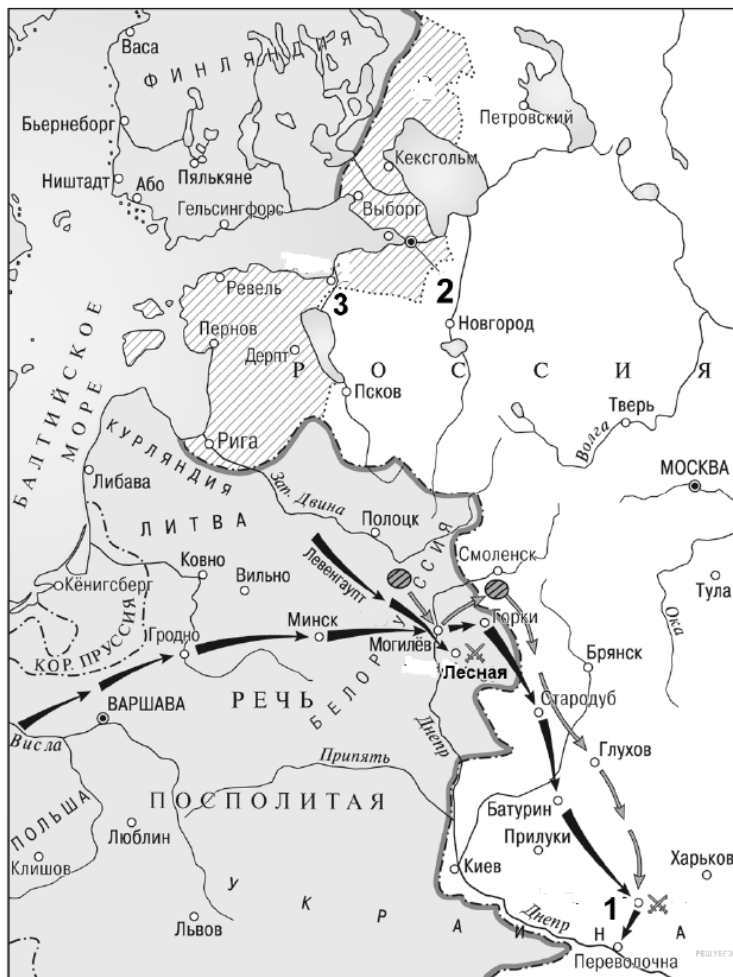
3) Незадолго до событий, которым посвящена схема, население изображённого на ней под цифрой «1» города и прилегающих территорий, платило дань государству, изображённому на схеме под цифрой «3».

4) Изображённое под цифрой «3» государство было уничтожено в результате действий князя, поход которого изображён на схеме.

5) Князь, руководивший походом, изображённом на схеме, погиб в результате схватки с печенегами.

6) Город, изображённый на схеме под цифрой «2», в древнерусских летописях назывался Царьградом.

49. Рассмотрите схему и выполните задание



13. Кто был правителем России в период войны, события которой обозначены на схеме?

14. Напишите (словом) век, в котором происходили отображённые на схеме военные события.

15. Напишите название города, обозначенного на схеме цифрой «2» и построенного в период войны, события которой отображены на схеме.

16. Какие суждения, относящиеся к событиям, обозначенным на схеме, являются верными? Выберите три суждения из шести предложенных. Запишите в таблицу цифры, под которыми они указаны.

- 1) В этой войне главным противником России была Австрийская империя.
- 2) Война, события которой отображены на схеме, длилась более двадцати лет.
- 3) В сражении под городом, обозначенном на схеме цифрой «1», русское войско потерпело сокрушительное поражение.
- 4) В ходе данной войны в России было учреждено стрелецкое войско.
- 5) Во главе государства – главного противника России в этой войне стоял король Карл XII.
- 6) Итогом войны стало присоединение к России заштрихованной на схеме территории.

50. Рассмотрите схему и выполните задание



13. Напишите название войны, события которой обозначены на схеме.

14. Напишите название города, обозначенного на схеме цифрой «1».

15. Назовите российского императора в период начала войны, события которой обозначены на схеме.

16. Какие суждения, относящиеся к событиям, обозначенным на схеме, являются верными? Выберите три суждения из шести предложенных. Запишите в таблицу цифры, под которыми они указаны.

1) Война, события которой изображены на схеме, относится к 1820-м гг.

2) Среди союзников Турции, действия которых изображены на схеме, была Великобритания.

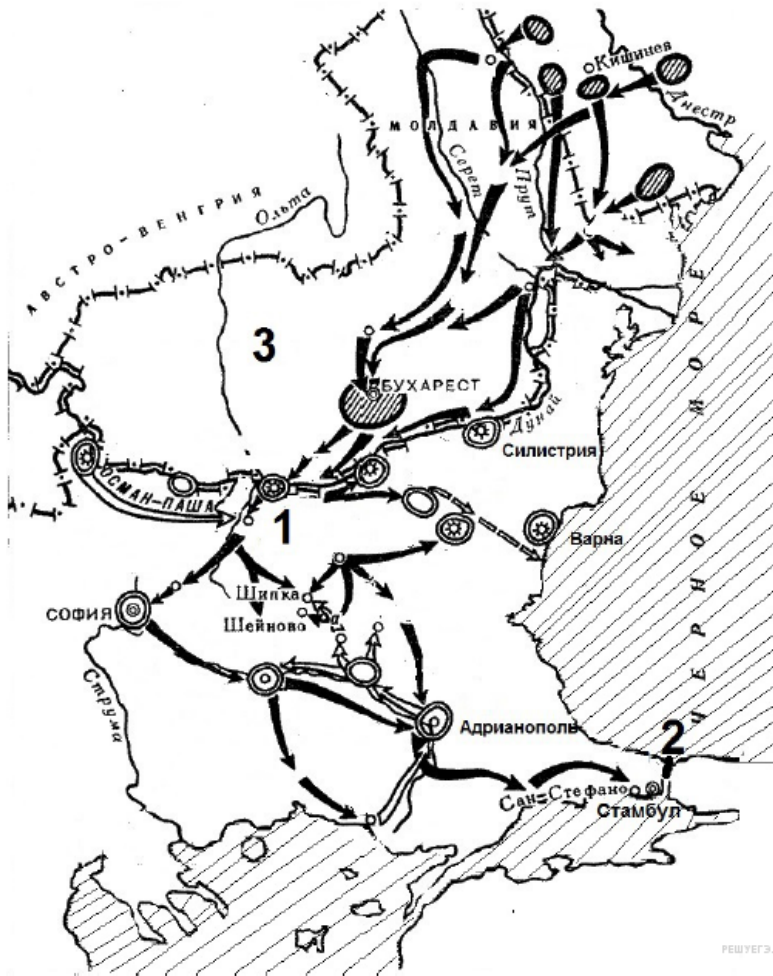
3) В бухте, обозначенной на схеме цифрой «2», в ходе войны был уничтожен турецкий флот.

4) Командующим русской эскадрой, действия которой изображены на схеме, был С. О. Макаров.

5) Город, обозначенный на схеме цифрой «1», до конца войны не был сдан неприятелю.

6) Мирный договор, завершивший войну, события которой изображены на схеме, был заключён в Париже.

51. Рассмотрите схему и выполните задание



13. Напишите название страны, военные действия с которой России обозначены на схеме.

14. Назовите российского императора, правившего в период войны, события которой обозначены на схеме.

15. Напишите название крепости, обозначенной на схеме цифрой «1».

16. Какие суждения, относящиеся к событиям, обозначенным на схеме, являются верными? Выберите три суждения из шести предложенных. Запишите в таблицу цифры, под которыми они указаны.

1) Пролив, обозначенный на схеме цифрой «2», — Босфор.

2) В войне, событиям которой посвящена схема, обозначенное цифрой «3» княжество было союзником России.

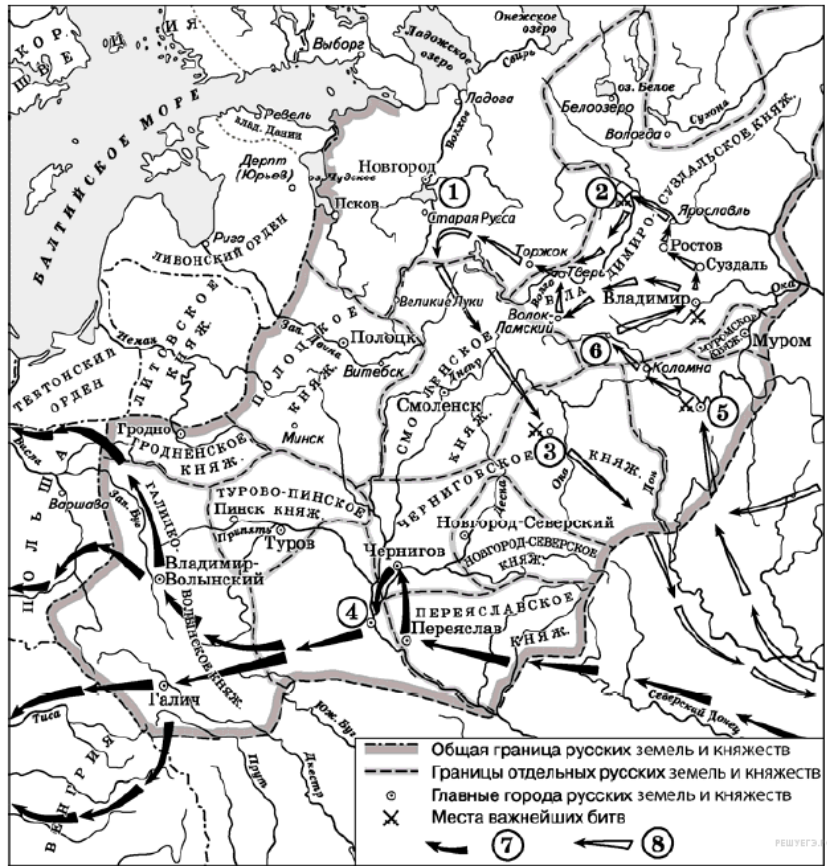
3) В ходе войны, события которой обозначены на схеме, русские войска заняли столицу противника.

4) По результатам войны, события которой обозначены на схеме, Россия получила Южную Бессарабию.

5) Итогом войны, события которой обозначены на схеме, стало установление на длительный период контроля России над проливом, обозначенным цифрой «2».

6) При том же российском императоре, к царствованию которого относится война, событиям которой посвящена схема, Россия воевала с Японией.

52. Рассмотрите схему и выполните задание



13. Укажите век, когда произошли события, обозначенные на схеме стрелками. Ответ запишите словом.

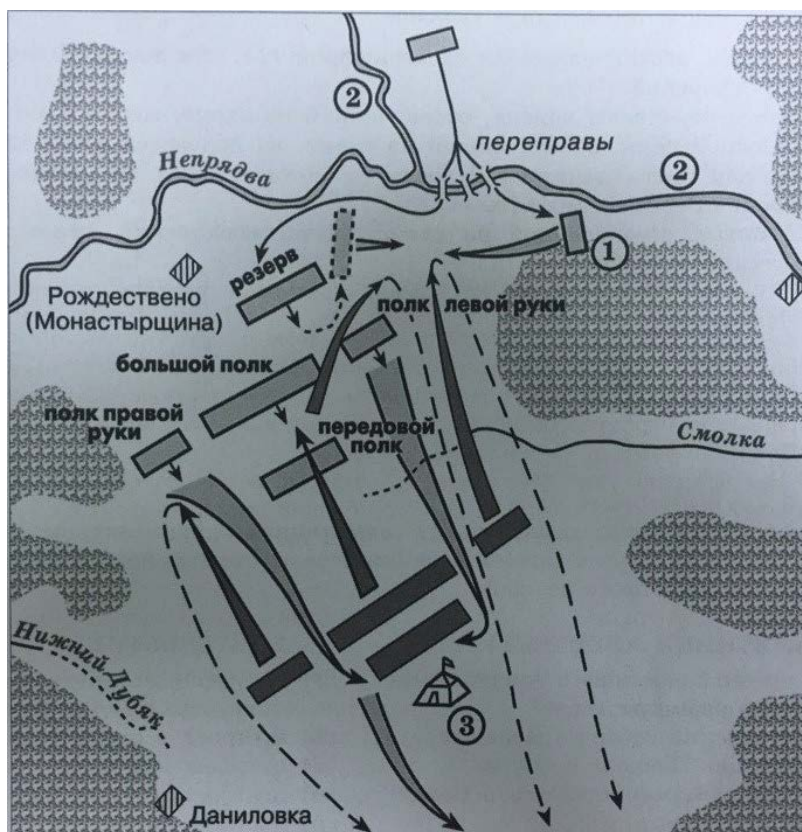
14. Укажите название города, обозначенного на схеме цифрой «3».

15. Назовите главнокомандующего, руководившего походом по направлению, обозначенному в легенде схемы цифрой «7».

16. Какие суждения, относящиеся к данной схеме, являются верными? Выберите три суждения из шести предложенных. Запишите в таблицу цифры, под которыми они указаны.

- 1) Цифрой «5» на схеме обозначена Рязань.
- 2) Первое летописное упоминание о городе, обозначенном на схеме цифрой «6», относится к 1147 г.
- 3) Цифрой «2» на схеме обозначена река Калка.
- 4) Стрелками, обозначенными в легенде схемы цифрой «8», показаны действия монгольских войск.
- 5) Боярин Евпатий Коловрат, прославившийся своей храбростью, был родом из города, обозначенного на схеме цифрой «4».
- 6) Цифрой «1» на схеме обозначен водный объект, по которому в годы Великой Отечественной войны проходила Дорога жизни.

53. Рассмотрите схему и выполните задание



13. Заполните пропуск в предложении: «Битва, представленная на схеме, состоялась в _____ веке». Ответ запишите в виде слова.

14. Назовите имя военачальника, шатёр которого обозначен на схеме цифрой «3».

15. Укажите название реки, обозначенной на схеме цифрой «2».

16. Какие суждения, относящиеся к битве, представленной на схеме, являются верными? Выберите три суждения из шести предложенных. Запишите в таблицу цифры, под которыми они указаны.

1) Полком, обозначенным на схеме цифрой «1», командовал Владимир Андреевич Серпуховской.

2) После переправы войска, обозначенной на схеме, мосты были сожжены.

3) Большой полк, обозначенный на схеме, не подвергся атаке противника.

4) Данная битва началась с поединка воинов, один из которых был монахом Троице-Сергиева монастыря.

5) В битве, обозначенной на схеме, погиб московский князь, командовавший русским войском.

6) В битве, обозначенной на схеме, принимал участие рязанский князь Олег Иванович

54. Рассмотрите схему и выполните задание



13. Заполните пропуск в предложении: «Строительство железной дороги, обозначенной на схеме, началось в тысяча восемьсот _____ гг.».

14. Укажите название города — конечной точки магистрали, обозначенного на схеме цифрой «4».

15. По условиям какого договора Россия уступала арендные права на участок железной дороги, обозначенной цифрой «2»?

16. Какие суждения, относящиеся к событиям, представленным на схеме, являются верными? Выберите три суждения из шести предложенных. Запишите в таблицу ЦИФРЫ, под которыми они указаны.

1) В городе, обозначенном на схеме цифрой «1», был взят в плен и расстрелян политический и военный деятель, носивший титул Верховного правителя России.

2) Строительство железной дороги, обозначенной на схеме, было полностью завершено в том же веке, в котором оно началось.

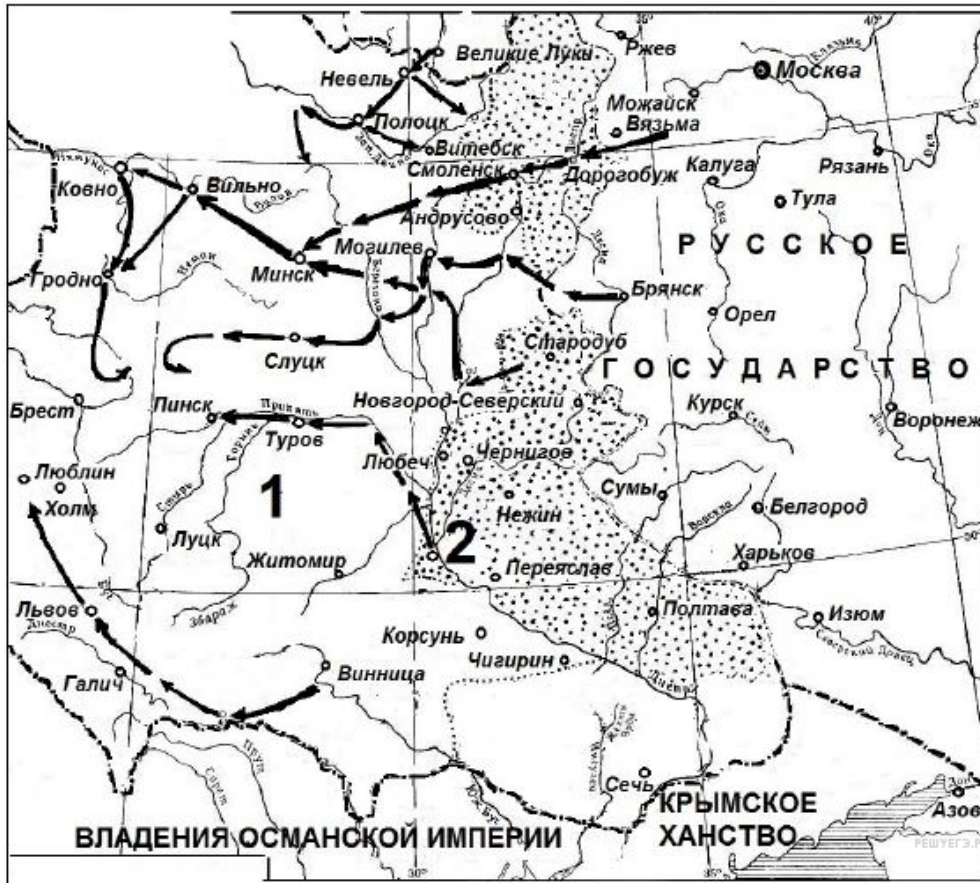
3) Участок железной дороги, обозначенный на схеме цифрой «2», проходил по территории соседнего государства.

4) Один из городов, обозначенных на схеме, назван в честь знаменитого русского землепроходца.

5) В районе города-порта, обозначенного на схеме цифрой «3», погиб адмирал П. С. Нахимов.

6) Город, обозначенный на схеме цифрой «4», был основан в XX в.

55. Рассмотрите схему и выполните задание



13. Напишите название государства, обозначенного на схеме цифрой «1».

14. Укажите век, когда произошли события, обозначенные на схеме. Ответ запишите словом.

15. Назовите правителя Русского государства, при котором произошла война, события которой отображены на схеме.

16. Какие суждения, относящиеся к событиям, обозначенным на схеме, являются верными? Выберите три суждения из шести предложенных.

Цифры укажите в порядке возрастания.

1) В тот же период, к которому относятся события войны, отображенные на схеме, Россия воевала со Швецией.

2) Современником войны, события которой отображены на схеме, был патриарх Филарет.

3) В царствование правителя Русского государства, при котором произошла война, события которой отображены на схеме, был завоёван выход в Балтийское море.

4) По условиям перемирия, завершившего данную войну, Россия должна была вернуть через два года противнику город, обозначенный на схеме цифрой «2».

5) Перемирие, завершившее войну, события которой отображены на схеме, было заключено в селении Андрусово.

6) Во время войны, события которой отображены на схеме, произошло сражение при деревне Лесной.

56. Рассмотрите схему и выполните задание



13. Напишите название периода в российской истории, в окончании которого Русское государство утратило территории, обозначенные на схеме цифрами «1» и «2».

14. Напишите название государства, которому Русское государство уступало территорию, обозначенную на схеме цифрой «1».

15. Назовите русского государя, при котором с соседними государствами были подписаны соглашения об уступке им территорий, обозначенных на схеме цифрами «1» и «2».

16. Какие суждения, относящиеся к событиям, обозначенным на схеме, являются верными? Выберите три суждения из шести предложенных.

Цифры укажите в порядке возрастания.

1) Обозначенные на схеме цифрой «2» территории были возвращены России в результате Смоленской войны.

2) Государство, обозначенное на схеме цифрой «3», образовалось путём соединения двух прежде самостоятельных государств.

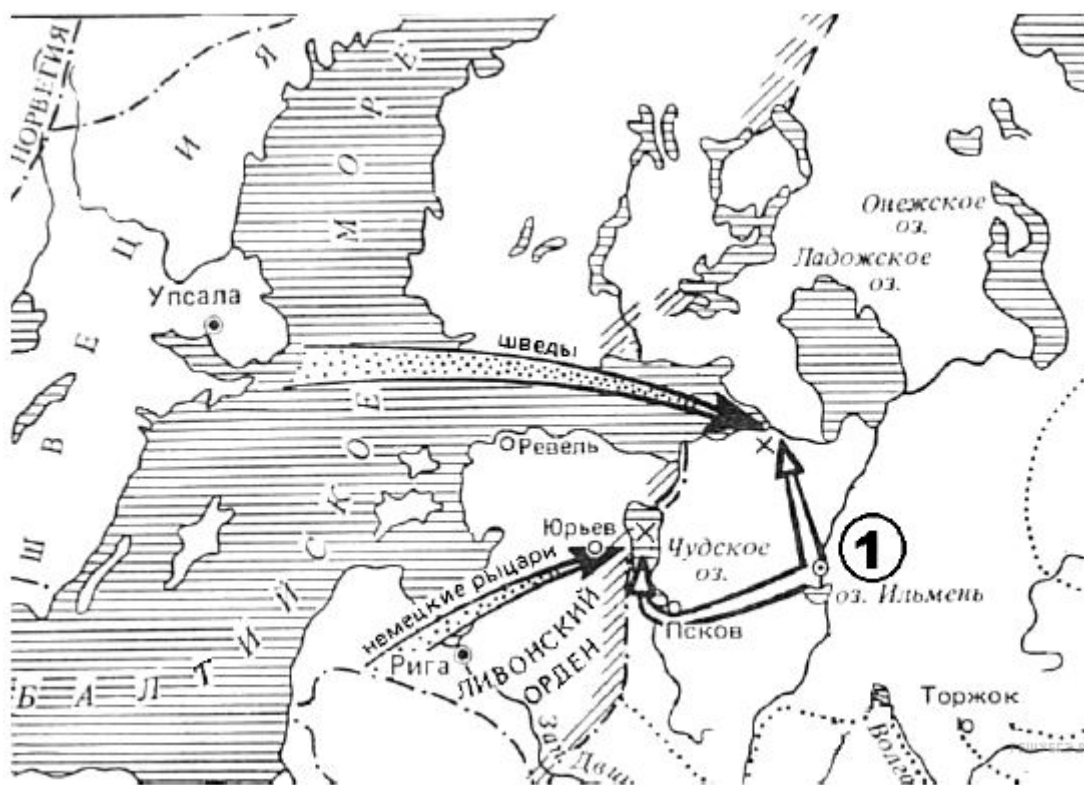
3) При государе, подписавшем с соседними государствами соглашения о передаче им территорий, обозначенных на схеме цифрами «1» и «2», в России начался церковный раскол.

4) Территории, обозначенные на схеме цифрой «1», были возвращены России при Петре I.

5) Заключение соглашений, по которым Русское государство уступало соседям территории, обозначенные на схеме цифрами «1» и «2», относится к началу XVI в.

6) Современником заключения соглашений, по которым Русское государство уступало обозначенные на схеме цифрами «1» и «2» территории, был патриарх Филарет.

57. Рассмотрите схему и выполните задание



13. Назовите русского князя, осуществившего походы, обозначенные на схеме белыми стрелками.

14. Укажите название города, обозначенного на схеме цифрой «1».

15. Укажите век, когда произошли сражения, обозначенные на схеме. Ответ запишите словом.

16. Какие суждения, относящиеся к событиям, обозначенным на схеме, являются верными? Выберите три суждения из шести предложенных.

Цифры укажите в порядке возрастания.

- 1) Русский князь, походы которого обозначены на схеме, был современником хана Батыея.
- 2) Русский князь, походы которого обозначены на схеме, впоследствии занял престол Великого княжества Владимирского.
- 3) Русский князь, походы которого обозначены на схеме, был внуком князя Ярослава Мудрого.
- 4) В том же веке, к которому относятся обозначенные на схеме события, произошло основание Москвы.
- 5) Город, обозначенный на схеме цифрой «1», отличался сильной княжеской властью.
- 6) Одно из сражений, обозначенных на схеме, вошло в историю под образным названием «Ледовое побоище».

58. Рассмотрите схему и выполните задание



13. Напишите название войны, события которой обозначены на схеме.

14. Напишите название страны, обозначенной на схеме цифрой «1».

15. Назовите российского императора, ко времени правления которого относится начало войны, события которой обозначены на схеме.

16. Какие суждения, относящиеся к событиям, обозначенным на схеме, являются верными? Выберите три суждения из шести предложенных.

Цифры укажите в порядке возрастания.

1) Одной из причин войны, события которой обозначены на схеме, был конфликт между православным и католическим духовенством из-за контроля над святынями Палестины («спор о ключах»).

2) Участником войны, события которой обозначены на схеме, был генерал М. Д. Скобелев.

3) Военные действия, обозначенные на схеме, завершились крупной победой русского оружия.

4) В войне, события которой обозначены на схеме, одним из противников России была Австро-Венгрия.

5) События, обозначенные на схеме, относятся к 1914 г.

6) Одним из последствий войны, события которой обозначены на схеме, стал распад Российской империи.

59. Рассмотрите схему и выполните задание



13. Напишите название битвы, события которой обозначены на схеме.

14. название реки, обозначенной на схеме цифрой «1».

15. Напишите название советской военной операции, реализацией которой стали обозначенные на схеме события.

16. Какие суждения, относящиеся к событиям, обозначенным на схеме, являются верными? Выберите три суждения из шести предложенных.

Цифры укажите в порядке возрастания.

1) События, обозначенные на схеме, относятся к 1944 г.

2) Командующим одним из советских фронтов, действия которых обозначены на схеме, был К. К. Рокоссовский.

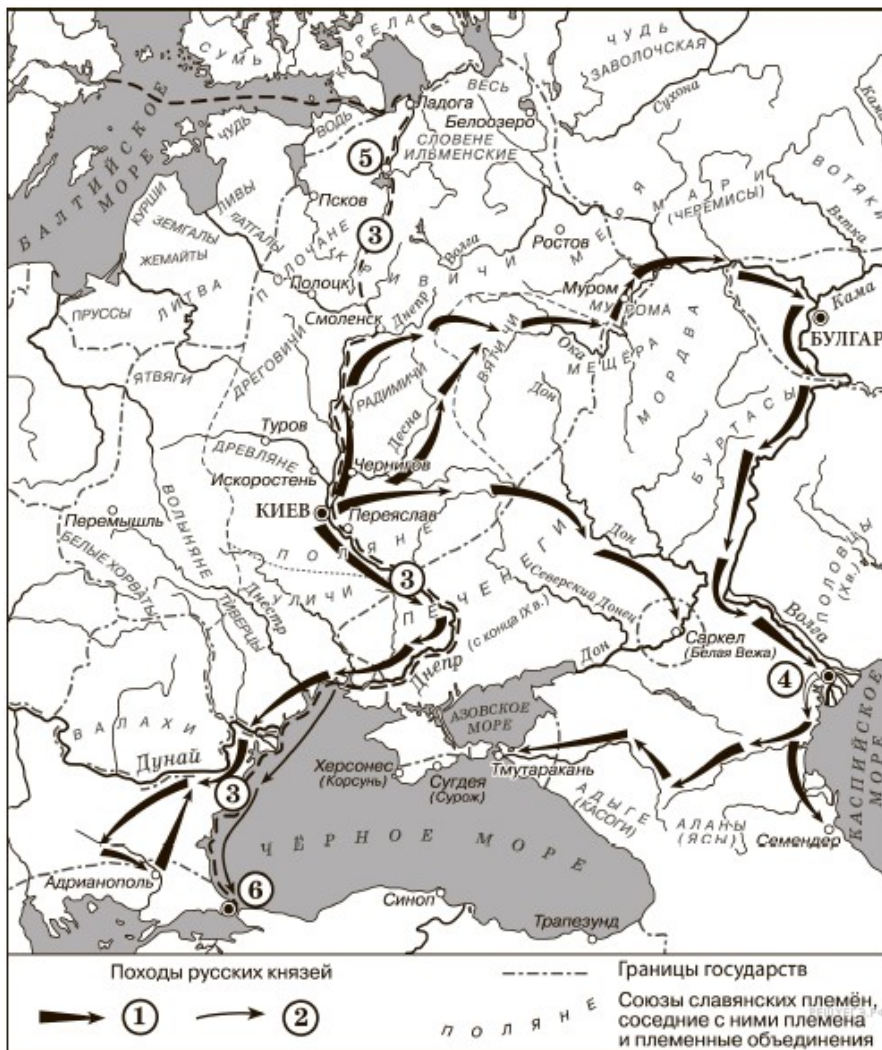
3) В ходе военных действий, предшествовавших обозначенным на схеме, противник смог полностью захватить город, обозначенный на схеме цифрой «2».

4) Одним из результатов военной операции, события которой обозначены на схеме, стало окружение крупной группировки противника.

5) В том же году, к которому относятся обозначенные на схеме события, Красная армия провела операцию «Багратион».

6) Советская военная операция, ход которой обозначен на схеме, началась в ноябре.

60. Рассмотрите схему и выполните задание



13. Укажите век, когда произошли события, обозначенные на схеме стрелками. Ответ запишите словом.

14. Укажите имя князя, походы которого обозначены в легенде схемы цифрой «1».

15. Укажите название торгового пути, обозначенного на схеме цифрой «3».

16. Какие суждения, относящиеся к событиям, обозначенным на схеме, являются верными? Выберите три суждения из шести предложенных. Запишите в таблицу цифры, под которыми они указаны.

Цифры укажите в порядке возрастания.

- 1) Цифрой «5» на схеме обозначен город Новгород.
- 2) В ходе событий, обозначенных на схеме стрелками, русское войско взяло город Перемышль.
- 3) В городе, обозначенном на схеме цифрой «6», согласно Повести временных лет, принял крещение киевский князь Владимир.
- 4) На схеме обозначен политико-административный центр восточнославянского племенного союза древлян.
- 5) Цифрой «4» на схеме обозначена столица Волжской Булгарии.
- 6) Киевский князь Олег совершил поход, обозначенный в легенде схемы цифрой «2».